

つみきを使って

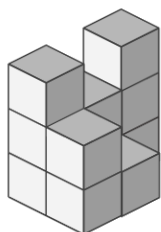
____年 ____組 ____名前

____ / 2

■ 外から色をぬったときに、2面 だけに色がぬられている つみきは何個でしょう。

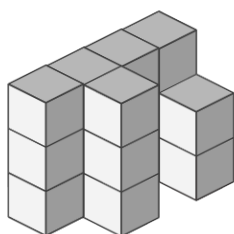
ただし、色は 下からはぬらないものとします。

①



個

②



個

つみきを使って

年 組 名前

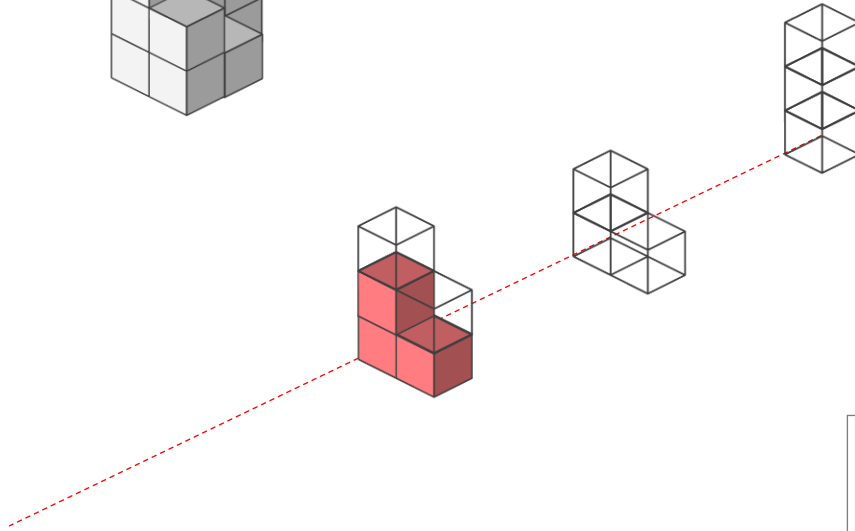
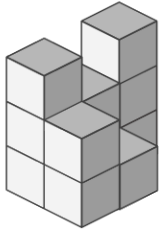
/ 2

■ 外から色をぬったときに、2面 だけに色がぬられている つみきは何個でしょう。

ただし、色は 下からはぬらないものとします。

①

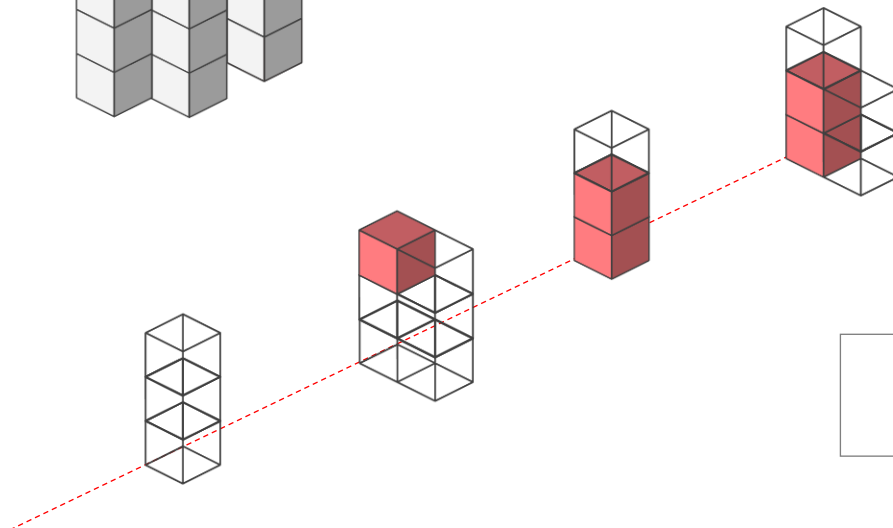
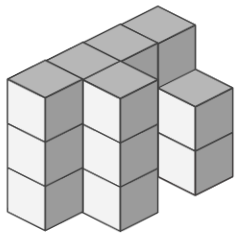
赤色で示した つみき が 2面 だけに色がぬられたつみき



3 個

②

赤色で示した つみき が 2面 だけに色がぬられたつみき



5 個