

# つみきを使って

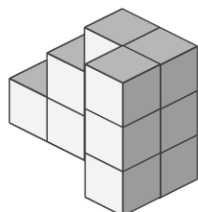
\_\_\_\_年 \_\_\_\_組 名前

\_\_\_\_ / 2

■ 外から色をぬったときに、2面 だけに色がぬられている つみきは何個でしょう。

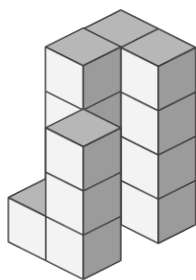
ただし、色は 下からはぬらないものとします。

①



個

②



個

# つみきを使って

年 組 名前

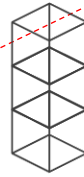
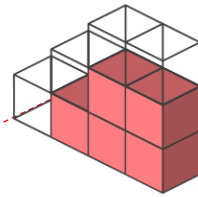
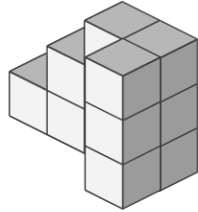
/ 2

■ 外から色をぬったときに、2面 だけに色がぬられている つみきは何個でしょう。

ただし、色は 下からはぬらないものとします。

①

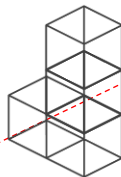
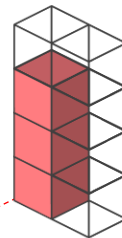
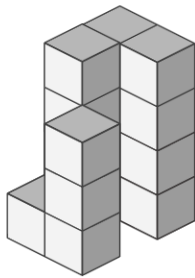
赤色で示した つみき が 2面 だけに色がぬられたつみき



5 個

②

赤色で示した つみき が 2面 だけに色がぬられたつみき



4 個