

つみきを使って

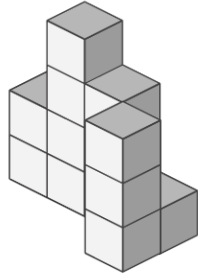
____年 ____組 ____名前

____ / 2

■ 外から色をぬったときに、2面 だけに色がぬられている つみきは何個でしょう。

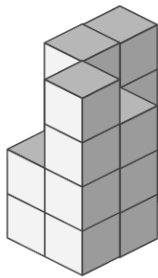
ただし、色は 下からはぬらないものとします。

①



____ 個

②



____ 個

つみきを使って

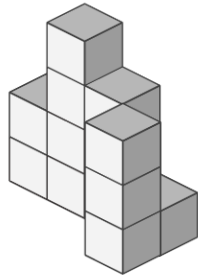
年 組 名前

/ 2

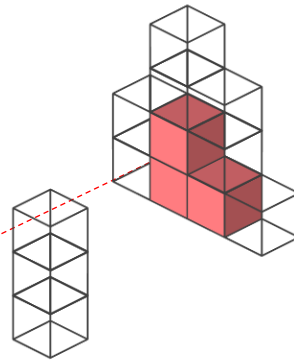
■ 外から色をぬったときに、2面 だけに色がぬられている つみき は何個でしょう。

ただし、色は 下からは ぬらないものとします。

①

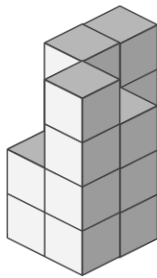


赤色で示した つみき が 2面 だけに色がぬられたつみき

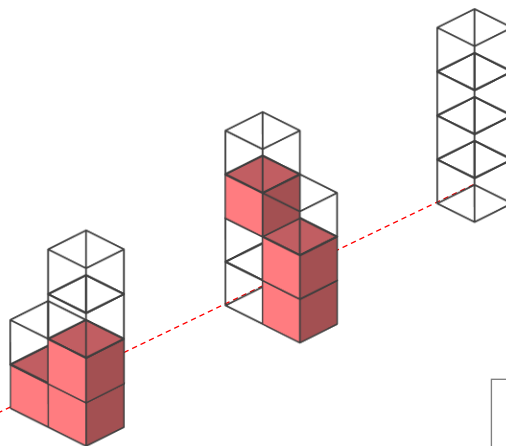


3 個

②



赤色で示した つみき が 2面 だけに色がぬられたつみき



6 個