

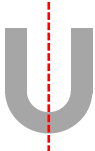



■ 次のアルファベットが線対称、点対称な図形であるかをそれぞれ考え、そうであれば「○」、違っていれば「×」を書きこみましょう。

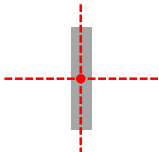


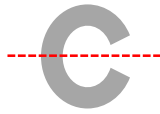
アルファベット	U	G	Z	Y
線対称				
点対称				



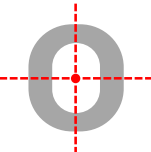

アルファベット	I	J	A	C
線対称				
点対称				

アルファベット	Q	N	O	B
線対称				
点対称				

■ 次のアルファベットが線対称、点対称な図形であるかをそれぞれ考え、そうであれば「○」、違っていれば「×」を書きこみましょう。

アルファベット				
線対称	○	×	×	○
点対称	×	×	○	×

アルファベット				
線対称	○	×	○	○
点対称	○	×	×	×

アルファベット				
線対称	×	×	○	○
点対称	×	○	○	×