

- 次のアルファベットが線対称、点対称な図形であるかをそれぞれ考え、そうであれば「○」、違っていれば「×」を書きこみましょう。



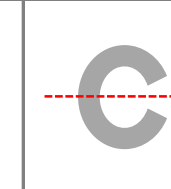
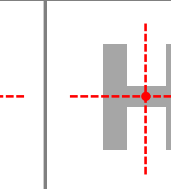
アルファベット	E	S	C	H
線対称				
点対称				


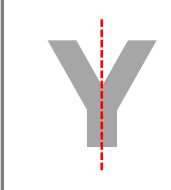
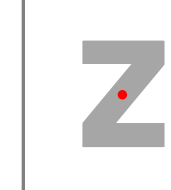

アルファベット	G	Y	Z	J
線対称				
点対称				


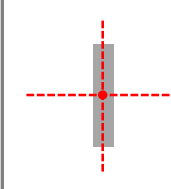

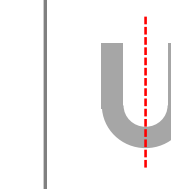
アルファベット	M	I	P	U
線対称				
点対称				

■ 次のアルファベットが線対称、点対称な図形であるかをそれぞれ考え、そうであれば「○」、

違っていれば「×」を書きこみましょう。

アルファベット				
線対称	○	×	○	○
点対称	×	○	×	○

アルファベット				
線対称	×	○	×	×
点対称	×	×	○	×

アルファベット				
線対称	○	○	×	○
点対称	×	○	×	×