

長方形や正方形の面積

____年 ____組 名前

/ 4

■ 次の長方形や正方形の面積を求めましょう。

①

82cm



正方形

(式)

②

14km




12km

(式)

③

39m



33m

(式)

④

11mm



51mm

(式)

長方形や正方形の面積

年 組 名前

/ 4

■ 次の長方形や正方形の面積を求めましょう。

①



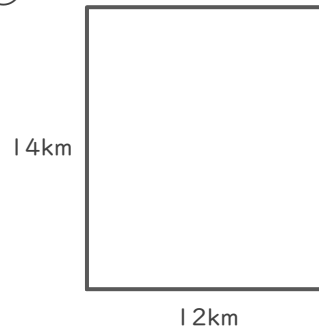
(式)

$$82 \times 82 = 6724$$

$$\begin{array}{r} 82 \\ \times 82 \\ \hline 164 \\ 656 \\ \hline 6724 \end{array}$$

6724 cm²

②



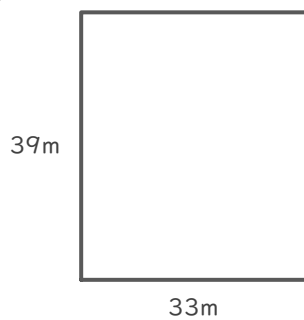
(式)

$$14 \times 12 = 168$$

$$\begin{array}{r} 14 \\ \times 12 \\ \hline 28 \\ 14 \\ \hline 168 \end{array}$$

168 km²

③



(式)

$$39 \times 33 = 1287$$

$$\begin{array}{r} 39 \\ \times 33 \\ \hline 117 \\ 117 \\ \hline 1287 \end{array}$$

1287 m²

④



(式)

$$11 \times 51 = 561$$

$$\begin{array}{r} 11 \\ \times 51 \\ \hline 11 \\ 55 \\ \hline 561 \end{array}$$

561 mm²