

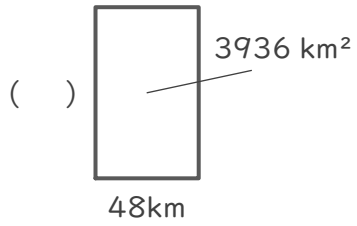
長方形や正方形の面積

年 組 名前

/ 4

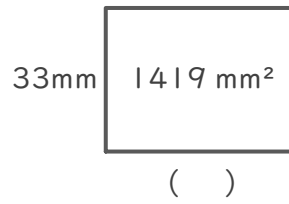
■ つぎの()にあてはまる長さをそれぞれ答えましょう。

①



(式)

②



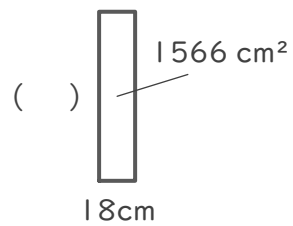
(式)

③



(式)

④



(式)

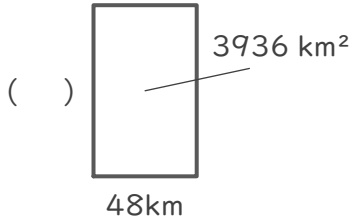
長方形や正方形の面積

年 組 名前

/ 4

■ つぎの()にあてはまる長さをそれぞれ答えましょう。

①

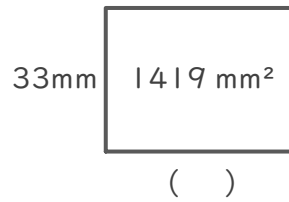


(式) $3936 \div 48 = 82$

$$\begin{array}{r} 82 \\ 48 \overline{) 3936} \\ \underline{384} \\ 96 \\ \underline{96} \\ 0 \end{array}$$

82 km

②



(式) $1419 \div 33 = 43$

$$\begin{array}{r} 43 \\ 33 \overline{) 1419} \\ \underline{132} \\ 99 \\ \underline{99} \\ 0 \end{array}$$

43 mm

③

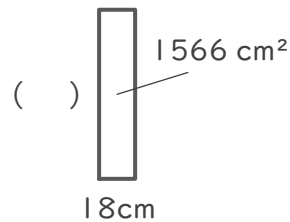


(式) $3003 \div 91 = 33$

$$\begin{array}{r} 33 \\ 91 \overline{) 3003} \\ \underline{273} \\ 273 \\ \underline{273} \\ 0 \end{array}$$

33 m

④



(式) $1566 \div 18 = 87$

$$\begin{array}{r} 87 \\ 18 \overline{) 1566} \\ \underline{144} \\ 126 \\ \underline{126} \\ 0 \end{array}$$

87 cm