

長方形や正方形の面積

年 組 名前

/ 4

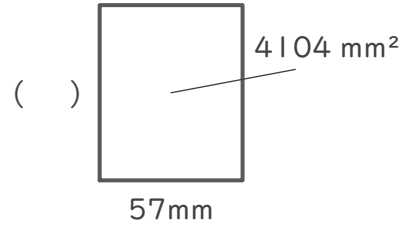
■ つぎの()にあてはまる長さをそれぞれ答えましょう。

①



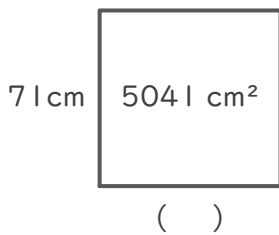
(式)

②



(式)

③



(式)

④



(式)

長方形や正方形の面積

年 組 名前

/ 4

■ つぎの()にあてはまる長さをそれぞれ答えましょう。

①



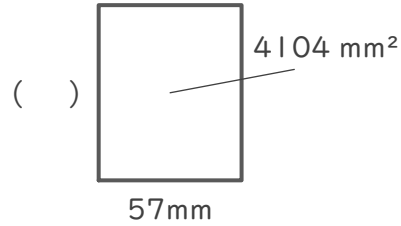
(式)

$$1265 \div 23 = 55$$

$$\begin{array}{r} 55 \\ 23 \overline{) 1265} \\ \underline{115} \\ 115 \\ \underline{115} \\ 0 \end{array}$$

55 m

②



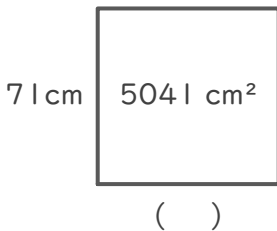
(式)

$$4104 \div 57 = 72$$

$$\begin{array}{r} 72 \\ 57 \overline{) 4104} \\ \underline{399} \\ 114 \\ \underline{114} \\ 0 \end{array}$$

72 mm

③



(式)

$$5041 \div 71 = 71$$

$$\begin{array}{r} 71 \\ 71 \overline{) 5041} \\ \underline{497} \\ 71 \\ \underline{71} \\ 0 \end{array}$$

71 cm

④



(式)

$$1325 \div 53 = 25$$

$$\begin{array}{r} 25 \\ 53 \overline{) 1325} \\ \underline{106} \\ 265 \\ \underline{265} \\ 0 \end{array}$$

25 km