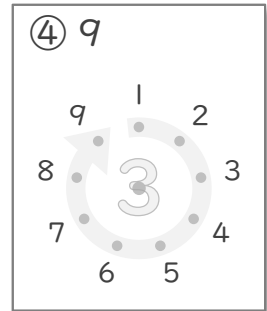
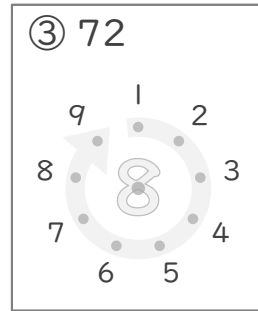
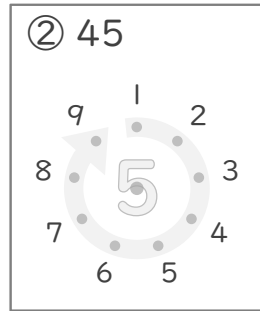
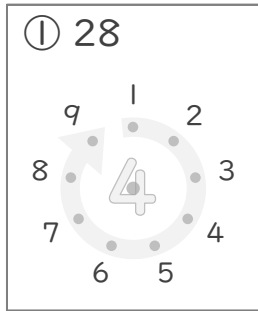


# 九九のまとめ

年 組 名前

/13

■ かけたときに 上の数になるように、まん中の 点を、まわりにある 点とつなぎましょう。



■ 2まいのカードにかかれた かけ算の 答えの 大きさをくらべて  に >, < や = で答えましょう。

⑤ ●  $3 \times 8$   ●  $5 \times 5$

⑧ ●  $7 \times 1$   ●  $2 \times 4$

⑥ ●  $8 \times 2$   ●  $4 \times 4$

⑨ ●  $6 \times 3$   ●  $2 \times 9$

⑦ ●  $4 \times 5$   ●  $6 \times 3$

⑩ ●  $5 \times 8$   ●  $4 \times 9$

■ かけ算の しきをたてて 答えましょう。

⑪ テープを 2本 つなぎます。

テープ 1本 の長さが 8cm のとき、ぜんぶで何cmになりますか。

(しき)

⑫ ももが 4こ 入ったはこが 3こ あります。

ももはぜんぶで何こありますか。

(しき)

⑬ まいにち 3さつ のえほんをよみます。

6日 で何さつの本をよむことができますか。

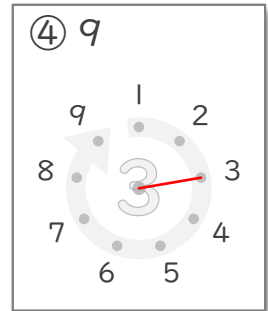
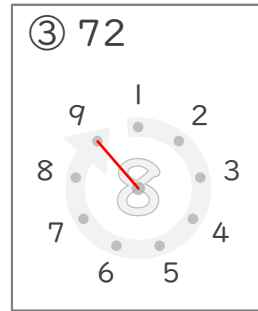
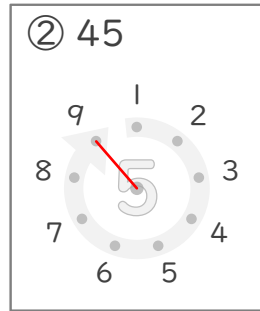
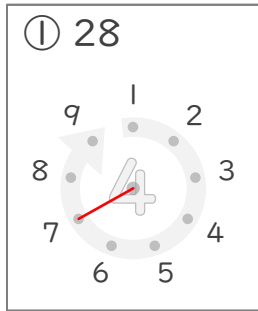
(しき)

# 九九のまとめ

年 組 名前

/13

■ かけたときに上の数になるように、まん中の点を、まわりにある点とつなぎましょう。



■ 2まいのカードにかかれたかけ算の答えの大きさをくらべて  に >, < や = で答えましょう。

⑤ ●  $3 \times 8$   ●  $5 \times 5$

⑧ ●  $7 \times 1$   ●  $2 \times 4$

⑥ ●  $8 \times 2$   ●  $4 \times 4$

⑨ ●  $6 \times 3$   ●  $2 \times 9$

⑦ ●  $4 \times 5$   ●  $6 \times 3$

⑩ ●  $5 \times 8$   ●  $4 \times 9$

■ かけ算のしきをたてて答えましょう。

⑪ テープを2本つなぎます。

テープ1本の長さが8cmのとき、ぜんぶで何cmになりますか。

(しき)  $8 \times 2 = 16$

16cm

⑫ ももが4こ入ったはこが3こあります。

ももはぜんぶで何こありますか。

(しき)  $4 \times 3 = 12$

12こ

⑬ まいにち3さつのえほんをよみます。

6日で何さつの本をよむことができますか。

(しき)  $3 \times 6 = 18$

18さつ