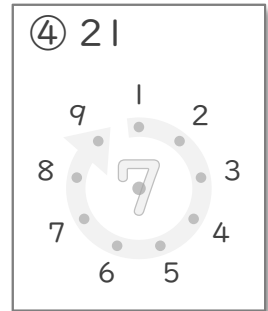
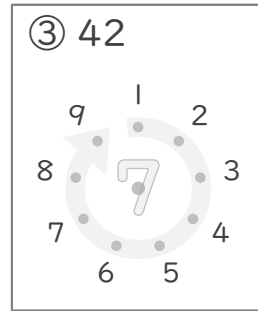
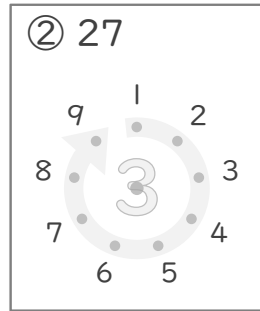
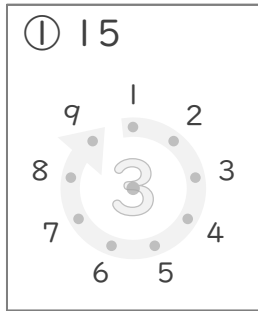


九九のまとめ

年 組 名前

/13

■ かけたときに上の数になるように、まん中の点を、まわりにある点とつなぎましょう。



■ 2まいのカードにかかれたかけ算の答えの大きさをくらべて に >, < や = で答えましょう。

⑤ ● 5×5 ● 9×3

⑧ ● 4×4 ● 9×2

⑥ ● 1×7 ● 2×3

⑨ ● 8×4 ● 5×7

⑦ ● 5×3 ● 8×2

⑩ ● 3×6 ● 5×4

■ かけ算のしきをたてて答えましょう。

- ⑪ 1人分のパンケーキをつくるのに、たまごを3こつかいます。
5人分のパンケーキをつくるには、たまごは何こいらいますか。

(しき)

- ⑫ 1はこに9このチーズが入ったはこが7こあります。
チーズはぜんぶで何こありますか。

(しき)

- ⑬ あつさ5mmの本をたてにつみます。
9さつとつと、高さはぜんぶで何mmになりますか。

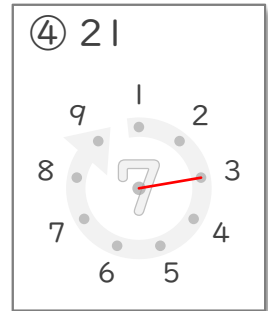
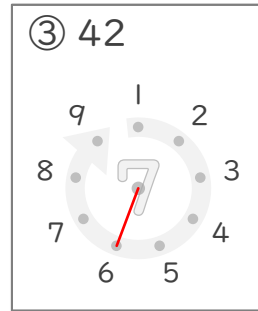
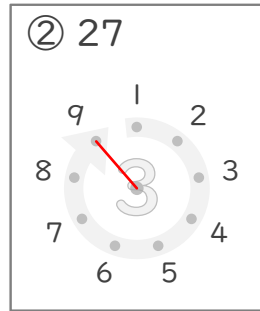
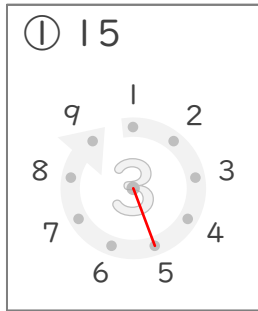
(しき)

九九のまとめ

年 組 名前

/13

■ かけたときに上の数になるように、まん中の点を、まわりにある点とつなぎましょう。



■ 2まいのカードにかかれたかけ算の答えの大きさをくらべて に >, < や = で答えましょう。

⑤ ● 5×5 < ● 9×3

⑧ ● 4×4 < ● 9×2

⑥ ● 1×7 > ● 2×3

⑨ ● 8×4 < ● 5×7

⑦ ● 5×3 < ● 8×2

⑩ ● 3×6 < ● 5×4

■ かけ算のしきをたてて答えましょう。

- ⑪ 1人分のパンケーキをつくるのに、たまごを3こつかいます。
5人分のパンケーキをつくるには、たまごは何こいらいますか。

(しき) $3 \times 5 = 15$

15こ

- ⑫ 1はこに9このチーズが入ったはこが7こあります。
チーズはぜんぶで何こありますか。

(しき) $9 \times 7 = 63$

63こ

- ⑬ あつさ5mmの本をたてにつみます。
9さつつおと、高さはぜんぶで何mmになりますか。

(しき) $5 \times 9 = 45$

45mm