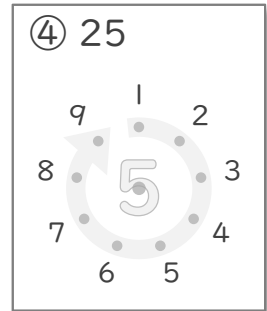
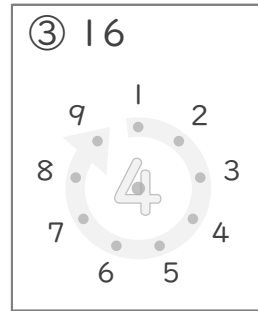
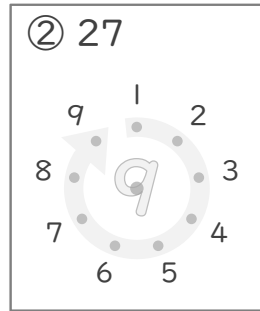
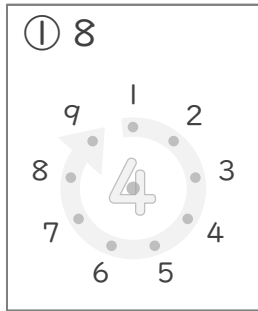


九九のまとめ

年 組 名前

/13

■ かけたときに上の数になるように、まん中の点を、まわりにある点とつなぎましょう。



■ 2まいのカードにかかれたかけ算の答えの大きさをくらべて に >, < や = で答えましょう。

⑤ ● 6×4 ● 3×8

⑧ ● 1×9 ● 3×3

⑥ ● 5×9 ● 7×6

⑨ ● 4×5 ● 7×3

⑦ ● 1×9 ● 5×2

⑩ ● 4×4 ● 3×6

■ かけ算のしきをたてて答えましょう。

⑪ 高さが8cmのつみ木をたてにつみます。
5こつむと、高さはぜんぶで何cmになりますか。

(しき)

⑫ 5人のグループを3くみ 作りしました。
みんなで何人いますか。

(しき)

⑬ 長いすが7つあります。
1つの長いすに7人ずつすわるとき、みんなで何人すわれますか。

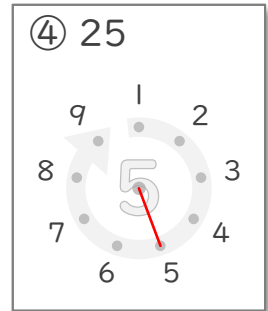
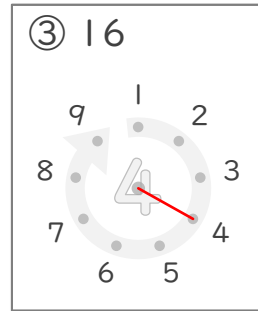
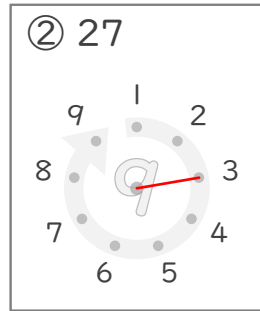
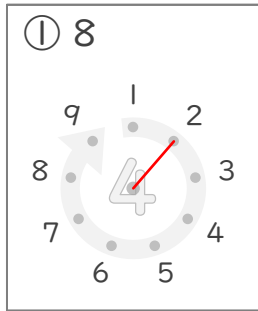
(しき)

九九のまとめ

年 組 名前

/13

■ かけたときに上の数になるように、まん中の点を、まわりにある点とつなぎましょう。



■ 2まいのカードにかかれたかけ算の答えの大きさをくらべて に >, < や = で答えましょう。

⑤ ● 6×4 = ● 3×8

⑧ ● 1×9 = ● 3×3

⑥ ● 5×9 > ● 7×6

⑨ ● 4×5 < ● 7×3

⑦ ● 1×9 < ● 5×2

⑩ ● 4×4 < ● 3×6

■ かけ算のしきをたてて答えましょう。

⑪ 高さが8cmのつみ木をたてにつみます。
5こつむと、高さはぜんぶで何cmになりますか。

(しき) $8 \times 5 = 40$

40cm

⑫ 5人のグループを3くみ 作りしました。
みんなで何人いますか。

(しき) $5 \times 3 = 15$

15人

⑬ 長いすが7つあります。
1つの長いすに7人ずつすわる時、みんなで何人すわれますか。

(しき) $7 \times 7 = 49$

49人