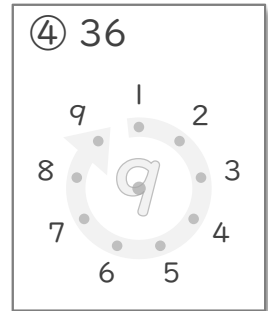
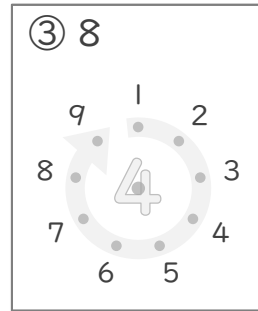
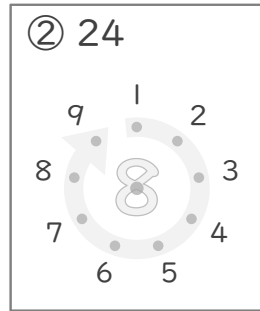
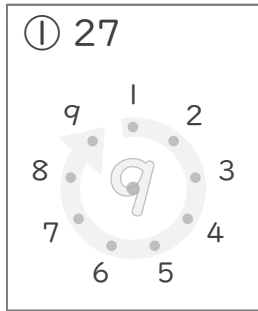


九九のまとめ

年 組 名前

/13

■ かけたときに上の数になるように、まん中の点を、まわりにある点とつなぎましょう。



■ 2まいのカードにかかれたかけ算の答えの大きさをくらべて に >, < や = で答えましょう。

⑤ ● 3×5 ● 8×2

⑧ ● 4×2 ● 3×3

⑥ ● 3×7 ● 5×4

⑨ ● 5×5 ● 8×3

⑦ ● 9×1 ● 3×3

⑩ ● 2×2 ● 1×3

■ かけ算のしきをたてて答えましょう。

⑪ 車のおもちゃを走らせるのに、でんちを4こつかいます。

9だいの車のおもちゃを走らせるには、でんちは何こいらいますか。

(しき)

⑫ かん字ドリルを1日に3ページずつすすめます。

3日では何ページすすめることができますか。

(しき)

⑬ オレンジが5こ入ったはこが6こあります。

オレンジはぜんぶで何こありますか。

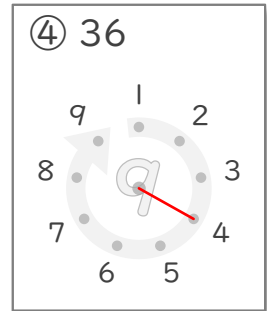
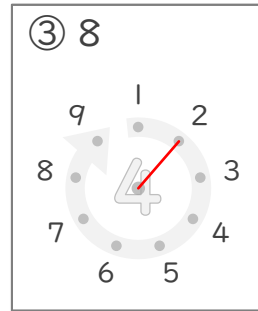
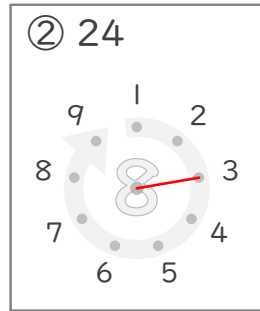
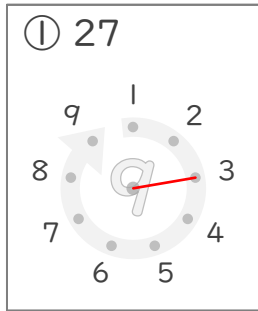
(しき)

九九のまとめ

年 組 名前

/13

■ かけたときに上の数になるように、まん中の点を、まわりにある点とつなぎましょう。



■ 2まいのカードにかかれたかけ算の答えの大きさをくらべて に >, < や = で答えましょう。

⑤ ● 3×5 < ● 8×2

⑧ ● 4×2 < ● 3×3

⑥ ● 3×7 > ● 5×4

⑨ ● 5×5 > ● 8×3

⑦ ● 9×1 = ● 3×3

⑩ ● 2×2 > ● 1×3

■ かけ算のしきをたてて答えましょう。

⑪ 車のおもちゃを走らせるのに、でんちを4こつかいます。

9だいの車のおもちゃを走らせるには、でんちは何こいらいますか。

(しき) $4 \times 9 = 36$

36こ

⑫ かん字ドリルを1日に3ページずつすすめます。

3日では何ページすすめることができますか。

(しき) $3 \times 3 = 9$

9ページ

⑬ オレンジが5こ入ったはこが6こあります。

オレンジはぜんぶで何こありますか。

(しき) $5 \times 6 = 30$

30こ