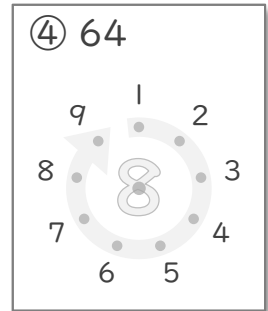
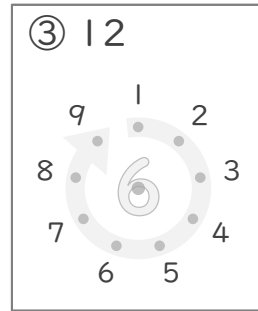
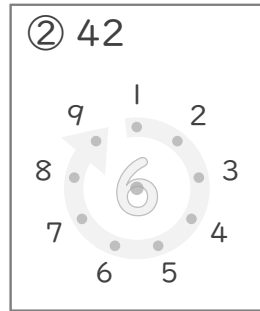
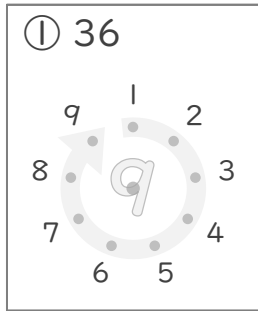


九九のまとめ

年 組 名前

/13

■ かけたときに上の数になるように、まん中の点を、まわりにある点とつなぎましょう。



■ 2まいのカードにかかれたかけ算の答えの大きさをくらべて に >, < や = で答えましょう。

⑤ ● 5×2 ● 3×4

⑧ ● 9×4 ● 5×7

⑥ ● 4×6 ● 7×3

⑨ ● 2×5 ● 3×3

⑦ ● 3×7 ● 5×4

⑩ ● 9×5 ● 7×8

■ かけ算のしきをたてて答えましょう。

⑪ オレンジが4こ入ったはこが7こあります。
オレンジはぜんぶで何こありますか。

(しき)

⑫ まいにち2さつのえほんをよみます。
2日で何さつの本をよむことができますか。

(しき)

⑬ 色紙を9まいずつ3人にくばります。
みんなにくばるには、色紙は何まいいりますか。

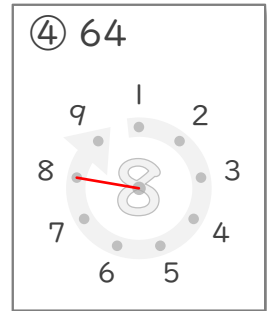
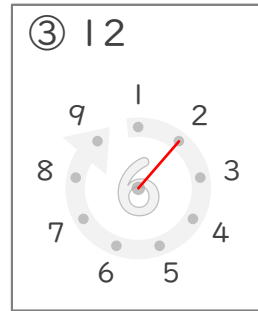
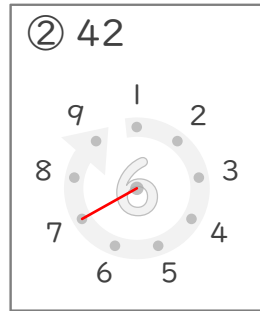
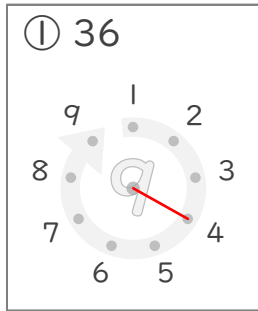
(しき)

九九のまとめ

年 組 名前

/13

■ かけたときに上の数になるように、まん中の点を、まわりにある点とつなぎましょう。



■ 2まいのカードにかかれたかけ算の答えの大きさをくらべて に >, < や = で答えましょう。

⑤ ● 5×2 < ● 3×4

⑧ ● 9×4 > ● 5×7

⑥ ● 4×6 > ● 7×3

⑨ ● 2×5 > ● 3×3

⑦ ● 3×7 > ● 5×4

⑩ ● 9×5 < ● 7×8

■ かけ算のしきをたてて答えましょう。

⑪ オレンジが4こ入ったはこが7こあります。
オレンジはぜんぶで何こありますか。

(しき) $4 \times 7 = 28$

28こ

⑫ まいにち2さつのえほんをよみます。
2日 で何さつの本をよむことができますか。

(しき) $2 \times 2 = 4$

4さつ

⑬ 色紙を9まいずつ3人にくばります。
みんなにくばるには、色紙は何まいいりますか。

(しき) $9 \times 3 = 27$

27まい