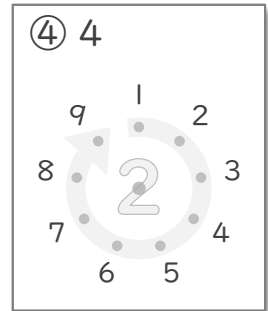
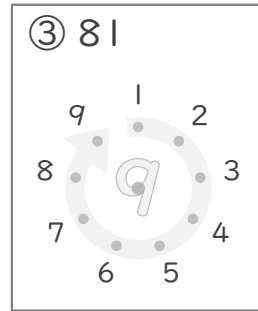
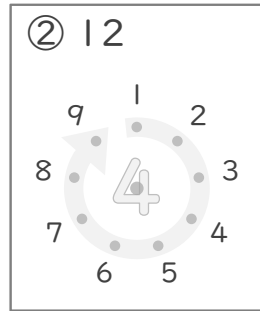
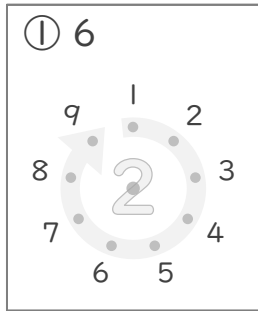


# 九九のまとめ

年 組 名前

/13

■ かけたときに上の数になるように、まん中の点を、まわりにある点とつなぎましょう。



■ 2まいのカードにかかれたかけ算の答えの大きさをくらべて  に >, < や = で答えましょう。

⑤ ●  $3 \times 1$   ●  $2 \times 2$

⑧ ●  $4 \times 6$   ●  $3 \times 7$

⑥ ●  $3 \times 3$   ●  $4 \times 2$

⑨ ●  $1 \times 8$   ●  $4 \times 2$

⑦ ●  $2 \times 2$   ●  $5 \times 1$

⑩ ●  $8 \times 1$   ●  $3 \times 3$

■ かけ算のしきをたてて答えましょう。

⑪ チョコレートを3こずつ4人にくばります。  
チョコレートはぜんぶで何こいらいますか。

(しき)

⑫ 長いすが9つあります。

1つの長いすに6人ずつすわる時、みんなで何人すわれますか。

(しき)

⑬ 高さが8cmのつみ木をたてにつみます。

8こつむと、高さはぜんぶで何cmになりますか。

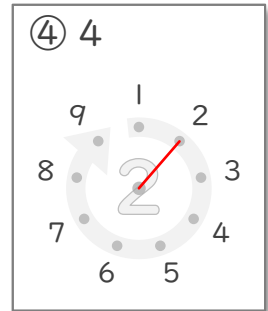
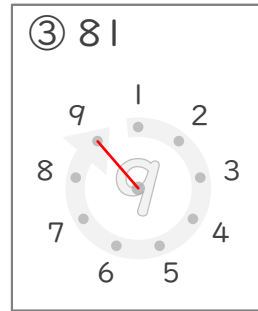
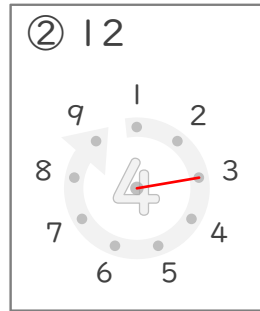
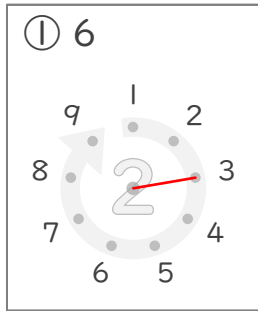
(しき)

# 九九のまとめ

年 組 名前

/13

■ かけたときに上の数になるように、まん中の点を、まわりにある点とつなぎましょう。



■ 2まいのカードにかかれたかけ算の答えの大きさをくらべて  に >, < や = で答えましょう。

⑤ ●  $3 \times 1$   ●  $2 \times 2$

⑧ ●  $4 \times 6$   ●  $3 \times 7$

⑥ ●  $3 \times 3$   ●  $4 \times 2$

⑨ ●  $1 \times 8$   ●  $4 \times 2$

⑦ ●  $2 \times 2$   ●  $5 \times 1$

⑩ ●  $8 \times 1$   ●  $3 \times 3$

■ かけ算のしきをたてて答えましょう。

⑪ チョコレートを3こずつ4人にくばります。  
チョコレートはぜんぶで何こいらいますか。

(しき)  $3 \times 4 = 12$

12こ

⑫ 長いすが9つあります。  
1つの長いすに6人ずつすわる時、みんなで何人すわれますか。

(しき)  $6 \times 9 = 54$

54人

⑬ 高さが8cmのつみ木をたてにつみます。  
8こつむと、高さはぜんぶで何cmになりますか。

(しき)  $8 \times 8 = 64$

64cm