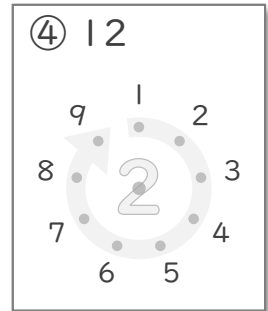
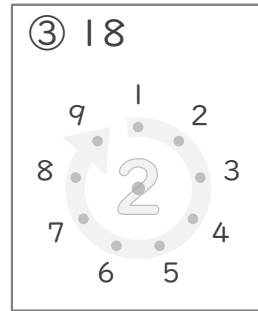
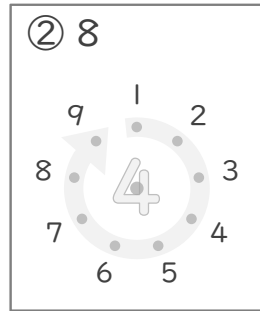
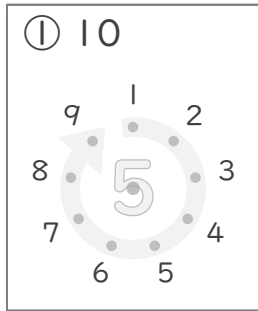


九九のまとめ

年 組 名前

/13

■ かけたときに上の数になるように、まん中の点を、まわりにある点とつなぎましょう。



■ 2まいのカードにかかれたかけ算の答えの大きさをくらべて に >, < や = で答えましょう。

⑤ ● 6×8 ● 9×5

⑧ ● 2×4 ● 1×9

⑥ ● 8×2 ● 6×3

⑨ ● 5×4 ● 3×7

⑦ ● 2×6 ● 4×3

⑩ ● 2×2 ● 1×4

■ かけ算のしきをたてて答えましょう。

⑪ 1はこに9このまんじゅうが入ったはこが2こあります。
まんじゅうはぜんぶで何こありますか。

(しき)

⑫ テープを4本つなぎます。

テープ1本の長さが6cmのとき、ぜんぶで何cmになりますか。

(しき)

⑬ あめを2こずつ8人にくばります。

あめはぜんぶで何こいらいますか。

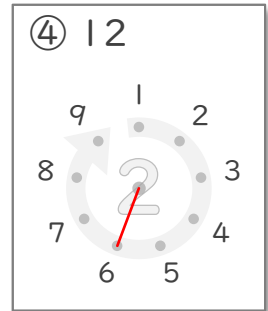
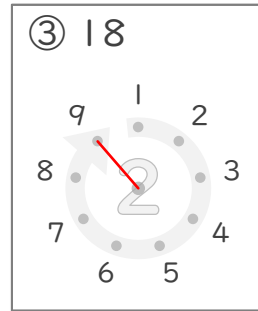
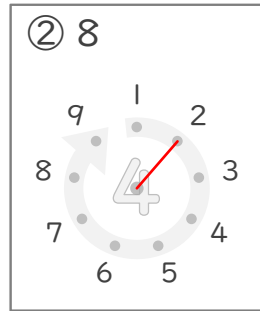
(しき)

九九のまとめ

年 組 名前

/13

■ かけたときに上の数になるように、まん中の点を、まわりにある点とつなぎましょう。



■ 2まいのカードにかかれたかけ算の答えの大きさをくらべて に >, < や = で答えましょう。

⑤ ● 6×8 ● 9×5

⑧ ● 2×4 ● 1×9

⑥ ● 8×2 ● 6×3

⑨ ● 5×4 ● 3×7

⑦ ● 2×6 ● 4×3

⑩ ● 2×2 ● 1×4

■ かけ算のしきをたてて答えましょう。

⑪ 1はこに9このまんじゅうが入ったはこが2こあります。
まんじゅうはぜんぶで何こありますか。

(しき) $9 \times 2 = 18$

18こ

⑫ テープを4本つなぎます。
テープ1本の長さが6cmのとき、ぜんぶで何cmになりますか。

(しき) $6 \times 4 = 24$

24cm

⑬ あめを2こずつ8人にくばります。
あめはぜんぶで何こいらいますか。

(しき) $2 \times 8 = 16$

16こ