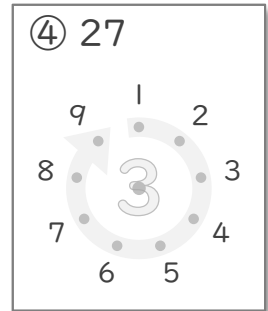
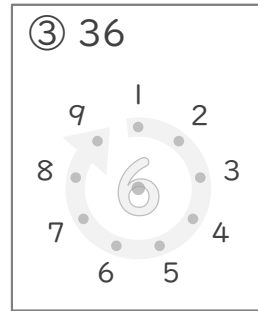
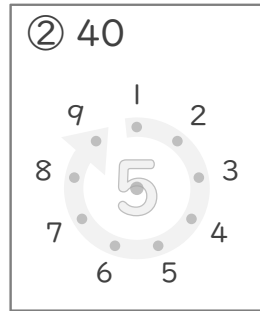
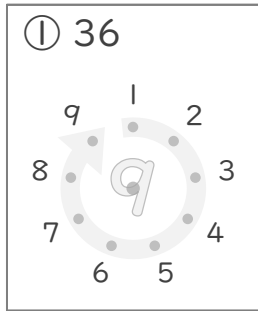


# 九九のまとめ

年 組 名前

/13

■ かけたときに上の数になるように、まん中の点を、まわりにある点とつなぎましょう。



■ 2まいのカードにかかれたかけ算の答えの大きさをくらべて  に >, < や = で答えましょう。

⑤ ●  $9 \times 1$   ●  $4 \times 2$

⑧ ●  $9 \times 2$   ●  $4 \times 4$

⑥ ●  $2 \times 5$   ●  $3 \times 3$

⑨ ●  $5 \times 3$   ●  $2 \times 8$

⑦ ●  $6 \times 3$   ●  $4 \times 5$

⑩ ●  $4 \times 7$   ●  $6 \times 5$

■ かけ算のしきをたてて答えましょう。

⑪ 高さが7cmのつみ木をたてにつみます。  
8こつむと、高さはぜんぶで何cmになりますか。

(しき)

⑫ 車のおもちゃを走らせるのに、でんちを3こつかいます。  
5だいの車のおもちゃを走らせるには、でんちは何こいらいますか。

(しき)

⑬ まいにち5さつのえほんをよみます。  
6日 で何さつの本をよむことができますか。

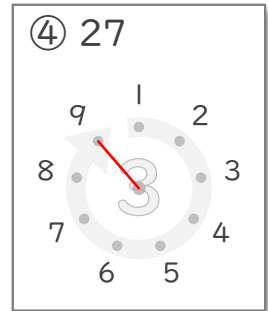
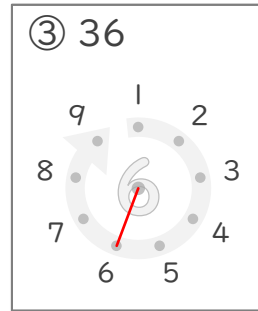
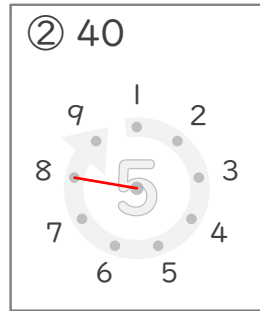
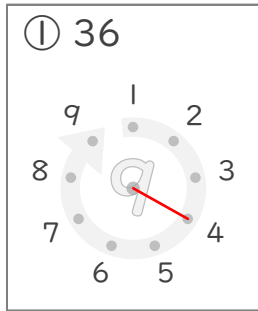
(しき)

# 九九のまとめ

年 組 名前

/13

■ かけたときに上の数になるように、まん中の点を、まわりにある点とつなぎましょう。



■ 2まいのカードにかかれたかけ算の答えの大きさをくらべて  に >, < や = で答えましょう。

⑤ ●  $9 \times 1$   ●  $4 \times 2$

⑧ ●  $9 \times 2$   ●  $4 \times 4$

⑥ ●  $2 \times 5$   ●  $3 \times 3$

⑨ ●  $5 \times 3$   ●  $2 \times 8$

⑦ ●  $6 \times 3$   ●  $4 \times 5$

⑩ ●  $4 \times 7$   ●  $6 \times 5$

■ かけ算のしきをたてて答えましょう。

⑪ 高さが7cmのつみ木をたてにつみます。  
8こつむと、高さはぜんぶで何cmになりますか。

(しき)  $7 \times 8 = 56$

56cm

⑫ 車のおもちゃを走らせるのに、でんちを3こつかいます。  
5だいの車のおもちゃを走らせるには、でんちは何こいらいますか。

(しき)  $3 \times 5 = 15$

15こ

⑬ まいにち5さつのえほんをよみます。  
6日 で何さつの本をよむことができますか。

(しき)  $5 \times 6 = 30$

30さつ