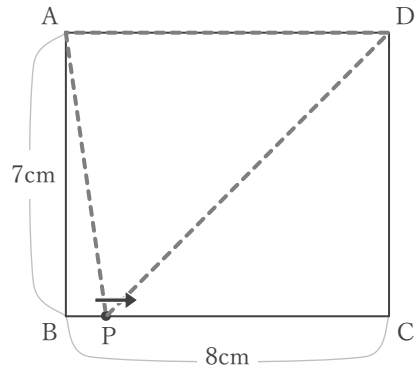


1次関数と図形

____年 ____組 名前 _____

/ 4

■ 右の図の点Pは、Aを出発して、長方形ABCDの辺上をB, Cを通過して、Dまで動きます。点Pが、Aから x cm 動いたときの $\triangle APD$ の面積を y cm^2 とするとき、 x と y の関係を考えます。

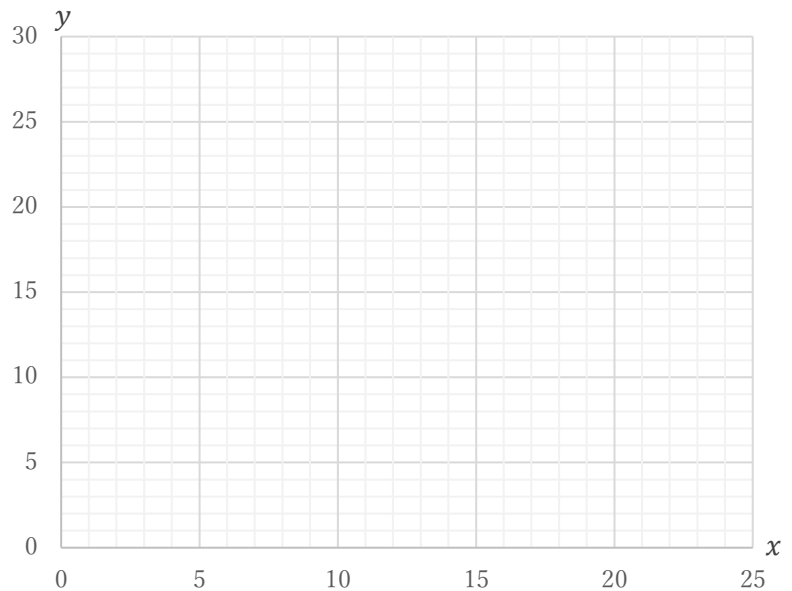


① 点Pが、辺AB上を動くとき ($0 \leq x \leq 7$) の、 x と y の関係を式に表しなさい。

② 点Pが、辺BC上を動くとき ($7 \leq x \leq 15$) の、 x と y の関係を式に表しなさい。

③ 点Pが、辺CD上を動くとき ($15 \leq x \leq 22$) の、 x と y の関係を式に表しなさい。

④ 点Pが、AからDまで動くときの、 x と y の関係をグラフに表しなさい。

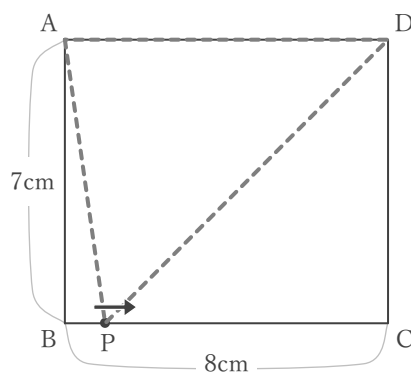


1次関数と図形

____年 ____組 名前 _____

/ 4

■ 右の図の長方形ABCDで、点PはAを出発して、辺上をB, Cを通過して、Dまで動きます。点Pが、Aから x cm 動いたときの $\triangle APD$ の面積を y cm^2 とするとき、 x と y の関係を考えます。



- ① 点Pが、辺AB上を動くとき($0 \leq x \leq 7$)の、 x と y の関係を式に表しなさい。

$\triangle APD$ の面積 y は、

底辺を $AD = 8\text{cm}$ とみると、点Pが辺AB上を動くときには、高さが $AP = x$ cm であることより

$$y = \frac{1}{2} \times 8 \times x$$

$$y = 4x$$

- ② 点Pが、辺BC上を動くとき($7 \leq x \leq 15$)の、 x と y の関係を式に表しなさい。

$\triangle APD$ の面積 y は、

底辺を $AD = 8\text{cm}$ とみると、

点Pが辺BC上を動くときには、高さは常に $AB = 7\text{cm}$ であることより

$$y = \frac{1}{2} \times 8 \times 7$$

$$y = 28$$

- ③ 点Pが、辺CD上を動くとき($15 \leq x \leq 22$)の、 x と y の関係を式に表しなさい。

$\triangle APD$ の面積 y は、

底辺を $AD = 8\text{cm}$ とみると、

点Pが辺CD上を動くときには、高さは $DP = \{(7+8+7)-x\}$ cm であることより

$$y = \frac{1}{2} \times 8 \times (22-x)$$

$$y = -4x + 88$$

- ④ 点Pが、AからDまで動くときの、 x と y の関係をグラフに表しなさい。

