


○時まで あと何分

年 組 名前

/10


■ つぎの時間を答えましょう。

① 8時40分から9時まで



分

⑥ 2時30分から3時まで



分

② 3時55分から4時まで



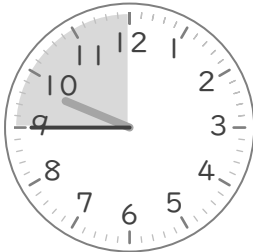
分

⑦ 6時5分から7時まで




分

③ 9時45分から10時まで




分

⑧ 4時25分から5時まで




分

④ 11時35分から12時まで



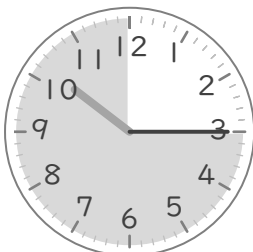
分

⑨ 12時50分から1時まで




分

⑤ 10時15分から11時まで



分

⑩ 1時20分から2時まで



分


# ○時まで あと何分

年 組 名前

/10


■ つぎの時間を答えましょう。

① 8時40分から9時まで



20 分

⑥ 2時30分から3時まで



30 分

② 3時55分から4時まで



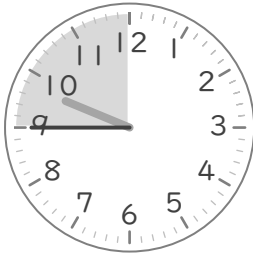
5 分

⑦ 6時5分から7時まで




55 分

③ 9時45分から10時まで




15 分

⑧ 4時25分から5時まで




35 分

④ 11時35分から12時まで



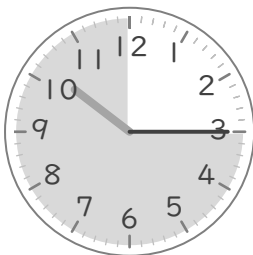
25 分

⑨ 12時50分から1時まで




10 分

⑤ 10時15分から11時まで



45 分

⑩ 1時20分から2時まで



40 分