

○時まで あと何分

年 組 名前

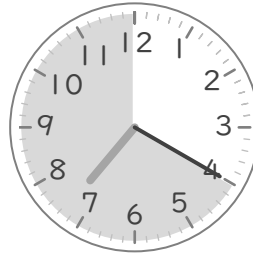
/10

■ つぎの時間を答えましょう。


① 8時5分から9時まで

 分


⑥ 7時20分から8時まで

 分

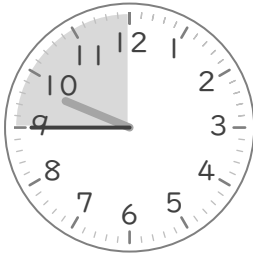
② 10時40分から11時まで

 分


⑦ 6時35分から7時まで

 分

③ 9時45分から10時まで

 分

⑧ 3時55分から4時まで

 分

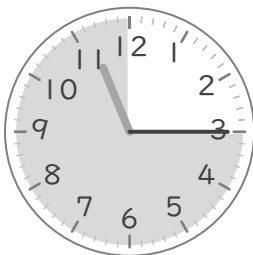
④ 5時25分から6時まで

 分


⑨ 12時10分から1時まで

 分

⑤ 11時15分から12時まで

 分

⑩ 2時30分から3時まで

 分

○時まで あと何分

年 組 名前

/10

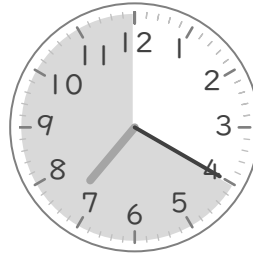
■ つぎの時間を答えましょう。

① 8時5分から9時まで




55 分

⑥ 7時20分から8時まで




40 分

② 10時40分から11時まで



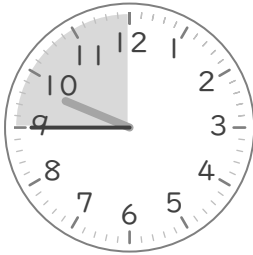
20 分

⑦ 6時35分から7時まで




25 分

③ 9時45分から10時まで



15 分

⑧ 3時55分から4時まで



5 分

④ 5時25分から6時まで



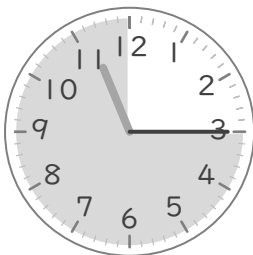
35 分

⑨ 12時10分から1時まで




50 分

⑤ 11時15分から12時まで



45 分

⑩ 2時30分から3時まで



30 分