


○時まで あと何分

年 組 名前

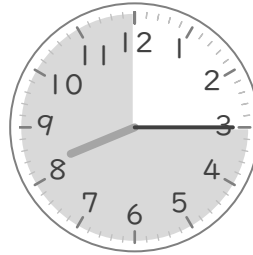
/10

■ つぎの時間を答えましょう。


① 6時10分から7時まで

 分


⑥ 8時15分から9時まで

 分

② 3時50分から4時まで

 分


⑦ 1時25分から2時まで

 分

③ 9時5分から10時まで

 分


⑧ 5時30分から6時まで

 分


④ 12時40分から1時まで

 分


⑨ 10時55分から11時まで

 分

⑤ 7時35分から8時まで

 分

⑩ 2時20分から3時まで

 分

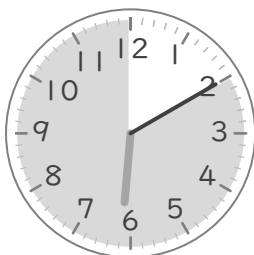
○時まで あと何分

年 組 名前

/10

■ つぎの時間を答えましょう。

① 6時10分から7時まで



50 分

⑥ 8時15分から9時まで




45 分

② 3時50分から4時まで



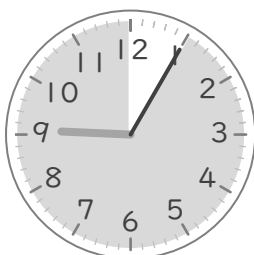
10 分

⑦ 1時25分から2時まで




35 分

③ 9時5分から10時まで




55 分

⑧ 5時30分から6時まで




30 分

④ 12時40分から1時まで




20 分

⑨ 10時55分から11時まで




5 分

⑤ 7時35分から8時まで



25 分

⑩ 2時20分から3時まで



40 分