

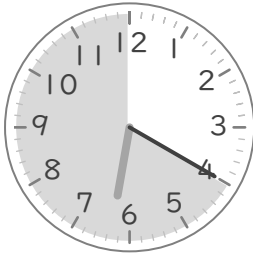
○時まで あと何分

年 組 名前


/10

■ つぎの時間を答えましょう。

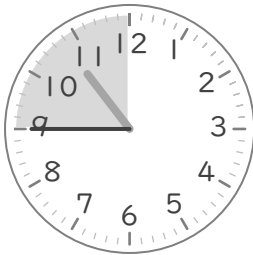
① 6時20分から7時まで

 分


⑥ 1時25分から2時まで

 分

② 10時45分から11時まで

 分


⑦ 12時40分から1時まで

 分

③ 4時5分から5時まで

 分


⑧ 2時15分から3時まで

 分

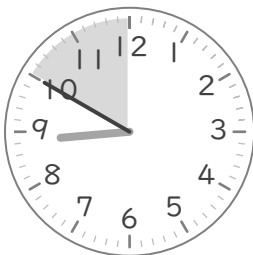
④ 3時55分から4時まで

 分


⑨ 5時30分から6時まで

 分

⑤ 8時50分から9時まで

 分

⑩ 7時35分から8時まで

 分

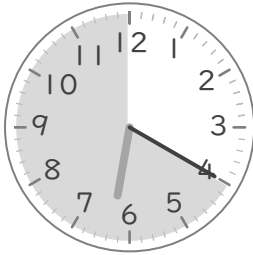
○時まで あと何分

年 組 名前

/10


■ つぎの時間を答えましょう。

① 6時20分から7時まで



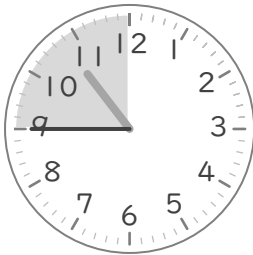
40 分

⑥ 1時25分から2時まで




35 分

② 10時45分から11時まで



15 分

⑦ 12時40分から1時まで




20 分

③ 4時5分から5時まで



55 分

⑧ 2時15分から3時まで




45 分

④ 3時55分から4時まで



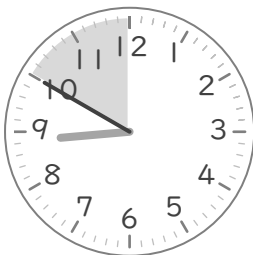
5 分

⑨ 5時30分から6時まで




30 分

⑤ 8時50分から9時まで



10 分

⑩ 7時35分から8時まで



25 分