


○時まで あと何分

年 組 名前

/10


■ つぎの時間を答えましょう。

① 3時20分から4時まで




分

⑥ 8時55分から9時まで



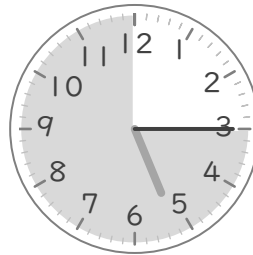
分

② 2時35分から3時まで




分

⑦ 5時15分から6時まで




分

③ 12時45分から1時まで



分

⑧ 1時30分から2時まで




分

④ 11時10分から12時まで




分

⑨ 7時40分から8時まで



分

⑤ 6時50分から7時まで



分

⑩ 10時5分から11時まで



分

○時まで あと何分

年 組 名前

/10


■ つぎの時間を答えましょう。

① 3時20分から4時まで




40 分

⑥ 8時55分から9時まで



5 分

② 2時35分から3時まで




25 分

⑦ 5時15分から6時まで




45 分

③ 12時45分から1時まで




15 分

⑧ 1時30分から2時まで




30 分

④ 11時10分から12時まで




50 分

⑨ 7時40分から8時まで



20 分

⑤ 6時50分から7時まで



10 分

⑩ 10時5分から11時まで



55 分