


○時まで あと何分

年 組 名前

/10

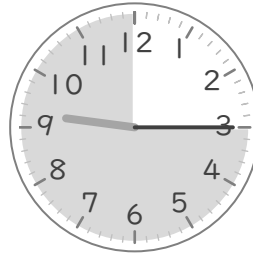
■ つぎの時間を答えましょう。

① 5時30分から6時まで




分

⑥ 9時15分から10時まで




分

② 3時50分から4時まで




分

⑦ 1時20分から2時まで



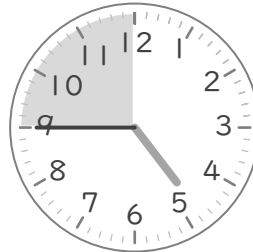
分

③ 10時55分から11時まで



分

⑧ 4時45分から5時まで



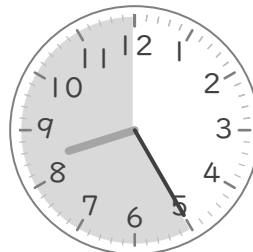
分

④ 7時10分から8時まで



分

⑨ 8時25分から9時まで




分

⑤ 6時35分から7時まで



分

⑩ 11時40分から12時まで



分


○時まで あと何分

年 組 名前

/10

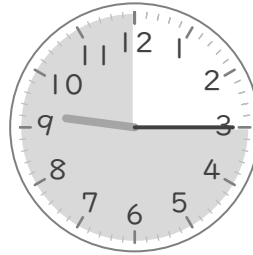
■ つぎの時間を答えましょう。

① 5時30分から6時まで




30 分

⑥ 9時15分から10時まで




45 分

② 3時50分から4時まで




10 分

⑦ 1時20分から2時まで



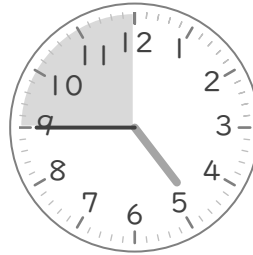
40 分

③ 10時55分から11時まで



5 分

⑧ 4時45分から5時まで



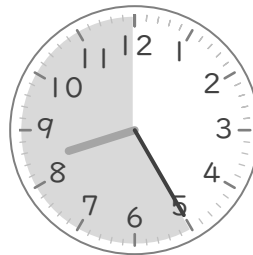
15 分

④ 7時10分から8時まで



50 分

⑨ 8時25分から9時まで




35 分

⑤ 6時35分から7時まで



25 分

⑩ 11時40分から12時まで



20 分