

○時まで あと何分

年 組 名前

/10

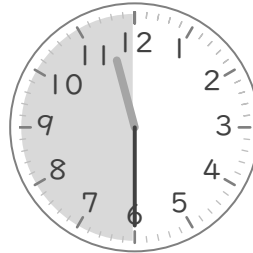
■ つぎの時間を答えましょう。

① 6時35分から7時まで




分

⑥ 11時30分から12時まで




分

② 8時55分から9時まで



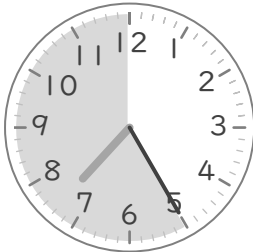
分

⑦ 5時40分から6時まで



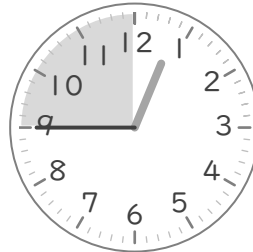
分

③ 7時25分から8時まで



分

⑧ 12時45分から1時まで




分

④ 4時5分から5時まで



分

⑨ 9時15分から10時まで




分

⑤ 10時50分から11時まで



分

⑩ 3時20分から4時まで



分


○時まで あと何分

年 組 名前

/10

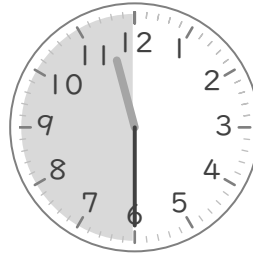
■ つぎの時間を答えましょう。

① 6時35分から7時まで




25 分

⑥ 11時30分から12時まで




30 分

② 8時55分から9時まで



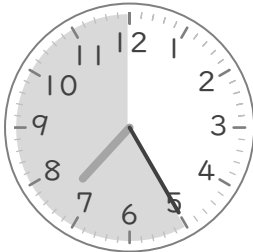
5 分

⑦ 5時40分から6時まで



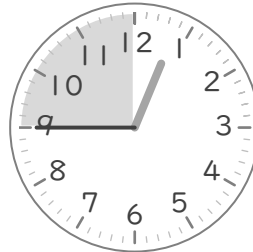
20 分

③ 7時25分から8時まで



35 分

⑧ 12時45分から1時まで



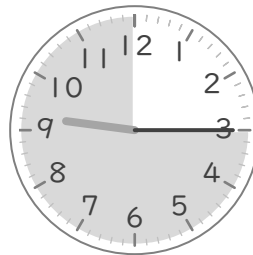
15 分

④ 4時5分から5時まで



55 分

⑨ 9時15分から10時まで




45 分

⑤ 10時50分から11時まで



10 分

⑩ 3時20分から4時まで



40 分