

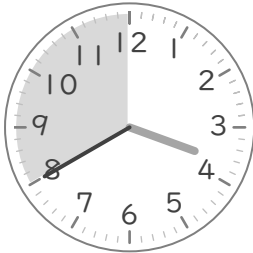
○時まで あと何分

年 組 名前

/10

■ つぎの時間を答えましょう。

① 3時40分から4時まで



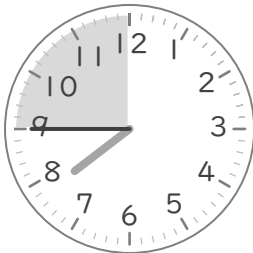
分

⑥ 4時5分から5時まで




分

② 7時45分から8時まで




分

⑦ 5時30分から6時まで




分

③ 6時35分から7時まで




分

⑧ 1時55分から2時まで




分

④ 9時50分から10時まで



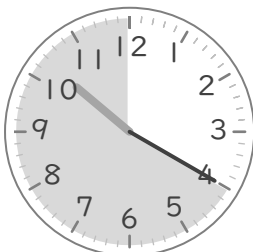
分

⑨ 12時15分から1時まで



分

⑤ 10時20分から11時まで



分

⑩ 2時10分から3時まで



分

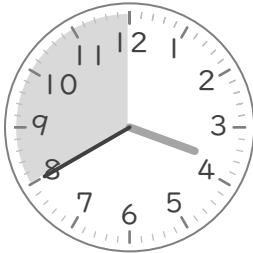
○時まで あと何分

年 組 名前

/10

■ つぎの時間を答えましょう。

① 3時40分から4時まで



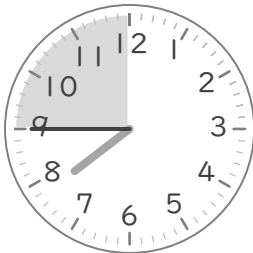
20 分

⑥ 4時5分から5時まで




55 分

② 7時45分から8時まで




15 分

⑦ 5時30分から6時まで




30 分

③ 6時35分から7時まで




25 分

⑧ 1時55分から2時まで




5 分

④ 9時50分から10時まで



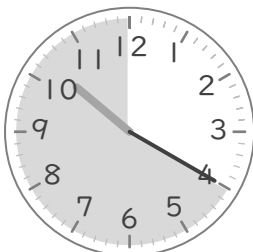
10 分

⑨ 12時15分から1時まで



45 分

⑤ 10時20分から11時まで



40 分

⑩ 2時10分から3時まで



50 分