

時こくと時間

年 組 名前

/12

■ つぎの時こくを 答えましょう。

① 12時5分の45分後



時 分

② 7時10分の45分後



時 分

③ 3時15分の35分後



時 分

④ 6時20分の30分後



時 分

⑤ 5時5分の40分後




時 分

⑥ 4時5分の5分後



時 分

⑦ 11時30分の25分後




時 分

⑧ 8時5分の30分後




時 分

⑨ 10時35分の20分後



時 分

⑩ 9時15分の40分後




時 分

⑪ 2時10分の40分後



時 分

⑫ 1時40分の15分後



時 分

時こくと時間

年 組 名前

/12

■ つぎの時こくを 答えましょう。

① 12時5分の45分後



12 時 50 分

② 7時10分の45分後



7 時 55 分

③ 3時15分の35分後



3 時 50 分

④ 6時20分の30分後



6 時 50 分

⑤ 5時5分の40分後




5 時 45 分

⑥ 4時5分の5分後



4 時 10 分

⑦ 11時30分の25分後




11 時 55 分

⑧ 8時5分の30分後




8 時 35 分

⑨ 10時35分の20分後




10 時 55 分

⑩ 9時15分の40分後




9 時 55 分

⑪ 2時10分の40分後



2 時 50 分

⑫ 1時40分の15分後



1 時 55 分