

時こくと時間

年 組 名前

/12

■ つぎの時こくを 答えましょう。

① 12時20分の20分後



時 分

② 8時10分の25分後



時 分

③ 2時25分の10分後



時 分

④ 6時5分の25分後



時 分

⑤ 4時20分の15分後



時 分

⑥ 1時25分の5分後



時 分

⑦ 9時10分の10分後




時 分

⑧ 10時10分の5分後



時 分

⑨ 11時35分の10分後




時 分

⑩ 7時5分の40分後



時 分

⑪ 5時35分の5分後



時 分

⑫ 3時10分の40分後



時 分

時こくと時間

年 組 名前

/12

■ つぎの時こくを 答えましょう。

① 12時20分の20分後



12 時 40 分

② 8時10分の25分後



8 時 35 分

③ 2時25分の10分後



2 時 35 分

④ 6時5分の25分後



6 時 30 分

⑤ 4時20分の15分後




4 時 35 分

⑥ 1時25分の5分後




1 時 30 分

⑦ 9時10分の10分後




9 時 20 分

⑧ 10時10分の5分後



10 時 15 分

⑨ 11時35分の10分後




11 時 45 分

⑩ 7時5分の40分後



7 時 45 分

⑪ 5時35分の5分後



5 時 40 分

⑫ 3時10分の40分後



3 時 50 分