

# 時こくと時間

年 組 名前

/12

■ つぎの時こくを 答えましょう。

① 5時5分の 15分後



時 分

② 6時15分の 20分後



時 分

③ 1時20分の 30分後



時 分

④ 4時35分の 10分後




時 分

⑤ 7時25分の 20分後



時 分

⑥ 8時15分の 25分後




時 分

⑦ 3時20分の 25分後



時 分

⑧ 2時15分の 5分後




時 分

⑨ 12時5分の 20分後




時 分

⑩ 11時10分の 45分後




時 分

⑪ 9時35分の 5分後



時 分

⑫ 10時35分の 20分後



時 分

# 時こくと時間

年 組 名前

/12

■ つぎの時こくを 答えましょう。

① 5時5分の15分後



5 時 20 分

② 6時15分の20分後



6 時 35 分

③ 1時20分の30分後



1 時 50 分

④ 4時35分の10分後



4 時 45 分

⑤ 7時25分の20分後



7 時 45 分

⑥ 8時15分の25分後




8 時 40 分

⑦ 3時20分の25分後



3 時 45 分

⑧ 2時15分の5分後




2 時 20 分

⑨ 12時5分の20分後




12 時 25 分

⑩ 11時10分の45分後




11 時 55 分

⑪ 9時35分の5分後



9 時 40 分

⑫ 10時35分の20分後



10 時 55 分