

# 時こくと時間

年 組 名前

/12

■ つぎの時こくを 答えましょう。

① 8時20分の5分後



時 分

② 4時10分の35分後



時 分

③ 7時25分の20分後



時 分

④ 3時5分の35分後



時 分

⑤ 6時5分の15分後



時 分

⑥ 10時15分の15分後




時 分

⑦ 9時20分の15分後




時 分

⑧ 12時40分の15分後




時 分

⑨ 5時50分の5分後




時 分

⑩ 1時40分の5分後




時 分

⑪ 11時15分の5分後



時 分

⑫ 2時25分の15分後



時 分

# 時こくと時間

年 組 名前

/12

■ つぎの時こくを 答えましょう。

① 8時20分の5分後



8 時 25 分

② 4時10分の35分後



4 時 45 分

③ 7時25分の20分後



7 時 45 分

④ 3時5分の35分後



3 時 40 分

⑤ 6時5分の15分後



6 時 20 分

⑥ 10時15分の15分後



10 時 30 分

⑦ 9時20分の15分後




9 時 35 分

⑧ 12時40分の15分後




12 時 55 分

⑨ 5時50分の5分後




5 時 55 分

⑩ 1時40分の5分後




1 時 45 分

⑪ 11時15分の5分後



11 時 20 分

⑫ 2時25分の15分後



2 時 40 分