

時こくと時間

年 組 名前

/12

■ つぎの時こくを 答えましょう。

① 2時20分の 35分後




時 分

② 8時10分の 40分後



時 分

③ 9時30分の 5分後



時 分

④ 7時30分の 20分後



時 分

⑤ 11時5分の 15分後




時 分

⑥ 3時10分の 30分後




時 分

⑦ 10時45分の 10分後




時 分

⑧ 1時40分の 10分後




時 分

⑨ 4時15分の 25分後




時 分

⑩ 12時15分の 35分後




時 分

⑪ 6時35分の 20分後



時 分

⑫ 5時10分の 5分後



時 分

時こくと時間

年 組 名前

/12

■ つぎの時こくを 答えましょう。

① 2時20分の 35分後



2 時 55 分

② 8時10分の 40分後



8 時 50 分

③ 9時30分の 5分後



9 時 35 分

④ 7時30分の 20分後



7 時 50 分

⑤ 11時5分の 15分後




11 時 20 分

⑥ 3時10分の 30分後




3 時 40 分

⑦ 10時45分の 10分後




10 時 55 分

⑧ 1時40分の 10分後




1 時 50 分

⑨ 4時15分の 25分後




4 時 40 分

⑩ 12時15分の 35分後




12 時 50 分

⑪ 6時35分の 20分後



6 時 55 分

⑫ 5時10分の 5分後



5 時 15 分