

時こくと時間

年 組 名前

/12

■ つぎの時こくを 答えましょう。

① 10時25分の15分後



時 分

② 9時10分の30分後



時 分

③ 6時45分の5分後



時 分

④ 1時15分の5分後



時 分

⑤ 2時35分の5分後



時 分

⑥ 8時10分の40分後



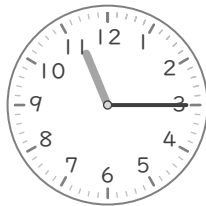
時 分

⑦ 4時15分の30分後



時 分

⑧ 11時15分の15分後




時 分

⑨ 12時5分の40分後




時 分

⑩ 5時10分の45分後




時 分

⑪ 3時5分の15分後



時 分

⑫ 7時15分の35分後



時 分

時こくと時間

年 組 名前

/12

■ つぎの時こくを 答えましょう。

① 10時25分の15分後



10 時 40 分

② 9時10分の30分後



9 時 40 分

③ 6時45分の5分後



6 時 50 分

④ 1時15分の5分後



1 時 20 分

⑤ 2時35分の5分後




2 時 40 分

⑥ 8時10分の40分後



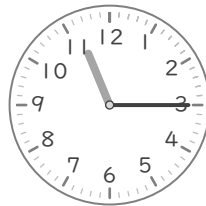
8 時 50 分

⑦ 4時15分の30分後



4 時 45 分

⑧ 11時15分の15分後




11 時 30 分

⑨ 12時5分の40分後




12 時 45 分

⑩ 5時10分の45分後




5 時 55 分

⑪ 3時5分の15分後



3 時 20 分

⑫ 7時15分の35分後



7 時 50 分