

# 時こくと時間

年 組 名前

/12

■ つぎの時こくを 答えましょう。

① 8時10分の 25分後



時 分

② 12時35分の 5分後



時 分

③ 4時5分の 15分後



時 分

④ 2時20分の 10分後



時 分

⑤ 1時15分の 5分後




時 分

⑥ 6時30分の 15分後




時 分

⑦ 3時40分の 10分後




時 分

⑧ 5時5分の 50分後



時 分

⑨ 9時5分の 40分後



時 分

⑩ 11時20分の 15分後




時 分

⑪ 10時5分の 5分後



時 分

⑫ 7時30分の 10分後



時 分

# 時こくと時間

年 組 名前

/12

■ つぎの時こくを 答えましょう。

① 8時10分の 25分後



8 時 35 分

② 12時35分の 5分後



12 時 40 分

③ 4時5分の 15分後



4 時 20 分

④ 2時20分の 10分後



2 時 30 分

⑤ 1時15分の 5分後




1 時 20 分

⑥ 6時30分の 15分後



6 時 45 分

⑦ 3時40分の 10分後




3 時 50 分

⑧ 5時5分の 50分後



5 時 55 分

⑨ 9時5分の 40分後



9 時 45 分

⑩ 11時20分の 15分後




11 時 35 分

⑪ 10時5分の 5分後



10 時 10 分

⑫ 7時30分の 10分後



7 時 40 分