

時こくと時間

年 組 名前

/12

■ つぎの時こくを 答えましょう。

① 12時20分の30分後



時 分

② 3時25分の5分後



時 分

③ 4時20分の35分後



時 分

④ 5時45分の5分後



時 分

⑤ 10時5分の10分後



時 分

⑥ 11時25分の10分後



時 分

⑦ 1時30分の15分後




時 分

⑧ 6時5分の40分後



時 分

⑨ 9時30分の20分後




時 分

⑩ 8時50分の5分後




時 分

⑪ 2時10分の35分後



時 分

⑫ 7時20分の5分後



時 分

時こくと時間

年 組 名前

/12

■ つぎの時こくを 答えましょう。

① 12時20分の30分後



12 時 50 分

② 3時25分の5分後



3 時 30 分

③ 4時20分の35分後



4 時 55 分

④ 5時45分の5分後



5 時 50 分

⑤ 10時5分の10分後




10 時 15 分

⑥ 11時25分の10分後



11 時 35 分

⑦ 1時30分の15分後




1 時 45 分

⑧ 6時5分の40分後




6 時 45 分

⑨ 9時30分の20分後



9 時 50 分

⑩ 8時50分の5分後




8 時 55 分

⑪ 2時10分の35分後



2 時 45 分

⑫ 7時20分の5分後



7 時 25 分