

時こくと時間

年 組 名前

/12

■ つぎの時こくを 答えましょう。

① 10時45分の30分前



時 分

② 12時50分の5分前



時 分

③ 4時55分の10分前



時 分

④ 9時45分の5分前



時 分

⑤ 2時55分の40分前




時 分

⑥ 6時20分の5分前




時 分

⑦ 8時50分の15分前




時 分

⑧ 3時40分の25分前




時 分

⑨ 1時30分の5分前




時 分

⑩ 11時35分の15分前



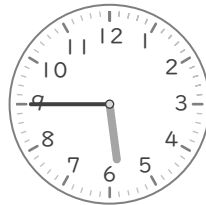
時 分

⑪ 7時30分の10分前



時 分

⑫ 5時45分の20分前



時 分

時こくと時間

年 組 名前

/12

■ つぎの時こくを 答えましょう。

① 10時45分の30分前



10 時 15 分

② 12時50分の5分前



12 時 45 分

③ 4時55分の10分前



4 時 45 分

④ 9時45分の5分前



9 時 40 分

⑤ 2時55分の40分前




2 時 15 分

⑥ 6時20分の5分前




6 時 15 分

⑦ 8時50分の15分前




8 時 35 分

⑧ 3時40分の25分前




3 時 15 分

⑨ 1時30分の5分前




1 時 25 分

⑩ 11時35分の15分前



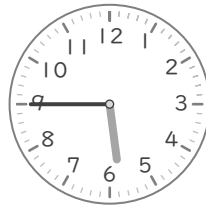
11 時 20 分

⑪ 7時30分の10分前



7 時 20 分

⑫ 5時45分の20分前



5 時 25 分