

時こくと時間

年 組 名前

/12

■ つぎの時こくを 答えましょう。

① 7時55分の10分前



時 分

② 8時45分の25分前



時 分

③ 4時45分の20分前



時 分

④ 10時45分の40分前



時 分

⑤ 12時45分の30分前



時 分

⑥ 6時55分の35分前



時 分

⑦ 3時45分の15分前



時 分

⑧ 11時55分の40分前



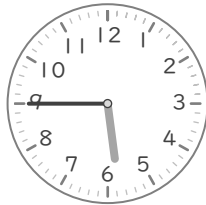
時 分

⑨ 1時50分の40分前




時 分

⑩ 5時45分の35分前




時 分

⑪ 2時40分の25分前



時 分

⑫ 9時50分の15分前



時 分

時こくと時間

年 組 名前

/12

■ つぎの時こくを 答えましょう。

① 7時55分の10分前



7 時 45 分

② 8時45分の25分前




8 時 20 分

③ 4時45分の20分前




4 時 25 分

④ 10時45分の40分前



10 時 5 分

⑤ 12時45分の30分前




12 時 15 分

⑥ 6時55分の35分前




6 時 20 分

⑦ 3時45分の15分前




3 時 30 分

⑧ 11時55分の40分前




11 時 15 分

⑨ 1時50分の40分前




1 時 10 分

⑩ 5時45分の35分前




5 時 10 分

⑪ 2時40分の25分前



2 時 15 分

⑫ 9時50分の15分前



9 時 35 分