

# 時こくと時間

年 組 名前

/12

■ つぎの時こくを 答えましょう。

① 11時25分の5分前



時 分

② 8時10分の5分前



時 分

③ 1時55分の50分前



時 分

④ 3時55分の30分前



時 分

⑤ 10時50分の45分前




時 分

⑥ 6時45分の25分前



時 分

⑦ 12時15分の5分前




時 分

⑧ 7時45分の40分前




時 分

⑨ 4時40分の15分前




時 分

⑩ 9時35分の5分前




時 分

⑪ 5時35分の15分前



時 分

⑫ 2時55分の35分前



時 分

# 時こくと時間

年 組 名前

/12

■ つぎの時こくを 答えましょう。

① 11時25分の5分前



11 時 20 分

② 8時10分の5分前



8 時 5 分

③ 1時55分の50分前



1 時 5 分

④ 3時55分の30分前



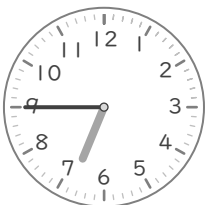
3 時 25 分

⑤ 10時50分の45分前




10 時 5 分

⑥ 6時45分の25分前




6 時 20 分

⑦ 12時15分の5分前




12 時 10 分

⑧ 7時45分の40分前




7 時 5 分

⑨ 4時40分の15分前




4 時 25 分

⑩ 9時35分の5分前




9 時 30 分

⑪ 5時35分の15分前



5 時 20 分

⑫ 2時55分の35分前



2 時 20 分