


時こくと時間

年 組 名前

/12

■ つぎの時こくを 答えましょう。

① 11時30分の10分前



時 分

② 6時45分の35分前



時 分

③ 8時35分の15分前



時 分

④ 12時50分の5分前



時 分

⑤ 10時45分の20分前




時 分

⑥ 2時25分の15分前




時 分

⑦ 4時55分の5分前




時 分

⑧ 7時20分の15分前




時 分

⑨ 1時50分の30分前




時 分

⑩ 9時40分の35分前




時 分

⑪ 5時35分の30分前



時 分

⑫ 3時55分の30分前



時 分

時こくと時間

年 組 名前

/12

■ つぎの時こくを 答えましょう。

① 11時30分の10分前



11 時 20 分

② 6時45分の35分前



6 時 10 分

③ 8時35分の15分前



8 時 20 分

④ 12時50分の5分前



12 時 45 分

⑤ 10時45分の20分前




10 時 25 分

⑥ 2時25分の15分前




2 時 10 分

⑦ 4時55分の5分前




4 時 50 分

⑧ 7時20分の15分前




7 時 5 分

⑨ 1時50分の30分前




1 時 20 分

⑩ 9時40分の35分前




9 時 5 分

⑪ 5時35分の30分前



5 時 5 分

⑫ 3時55分の30分前



3 時 25 分