

# 時こくと時間

年 組 名前

/12

■ つぎの時こくを 答えましょう。

① 6時45分の10分前



時 分

② 1時45分の25分前



時 分

③ 9時15分の10分前



時 分

④ 2時40分の20分前



時 分

⑤ 12時55分の10分前




時 分

⑥ 10時40分の25分前




時 分

⑦ 8時20分の15分前




時 分

⑧ 4時55分の5分前




時 分

⑨ 5時55分の40分前




時 分

⑩ 3時30分の10分前




時 分

⑪ 7時25分の10分前



時 分

⑫ 11時35分の30分前



時 分

# 時こくと時間

年 組 名前

/12

■ つぎの時こくを 答えましょう。

① 6時45分の10分前



6 時 35 分

② 1時45分の25分前



1 時 20 分

③ 9時15分の10分前



9 時 5 分

④ 2時40分の20分前




2 時 20 分

⑤ 12時55分の10分前




12 時 45 分

⑥ 10時40分の25分前




10 時 15 分

⑦ 8時20分の15分前




8 時 5 分

⑧ 4時55分の5分前




4 時 50 分

⑨ 5時55分の40分前




5 時 15 分

⑩ 3時30分の10分前




3 時 20 分

⑪ 7時25分の10分前



7 時 15 分

⑫ 11時35分の30分前



11 時 5 分