

時こくと時間

年 組 名前

/12

■ つぎの時こくを 答えましょう。

① 5時55分の40分前



時 分

② 8時50分の5分前



時 分

③ 7時40分の25分前



時 分

④ 3時55分の20分前



時 分

⑤ 6時40分の20分前




時 分

⑥ 9時55分の15分前




時 分

⑦ 1時40分の30分前



時 分

⑧ 2時30分の10分前




時 分

⑨ 11時25分の10分前




時 分

⑩ 10時35分の10分前




時 分

⑪ 12時45分の15分前



時 分

⑫ 4時55分の50分前



時 分

時こくと時間

年 組 名前

/12

■ つぎの時こくを 答えましょう。

① 5時55分の40分前



5 時 15 分

② 8時50分の5分前



8 時 45 分

③ 7時40分の25分前



7 時 15 分

④ 3時55分の20分前



3 時 35 分

⑤ 6時40分の20分前




6 時 20 分

⑥ 9時55分の15分前




9 時 40 分

⑦ 1時40分の30分前




1 時 10 分

⑧ 2時30分の10分前




2 時 20 分

⑨ 11時25分の10分前




11 時 15 分

⑩ 10時35分の10分前




10 時 25 分

⑪ 12時45分の15分前



12 時 30 分

⑫ 4時55分の50分前



4 時 5 分