

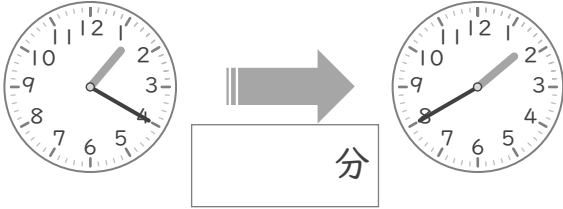
# 時こくと時間

年 組 名前

/10

■ つぎの 2つの 時こくの 間の時間を 答えましょう。

① 1時20分 と 1時40分



⑥ 2時5分 と 2時40分



② 12時15分 と 12時35分



⑦ 11時15分 と 11時25分



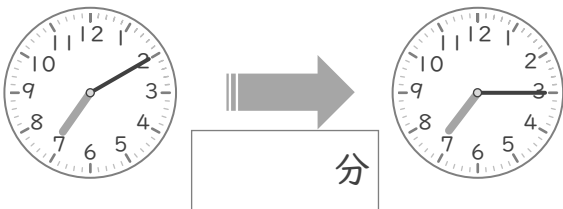
③ 10時5分 と 10時10分



⑧ 6時15分 と 6時20分



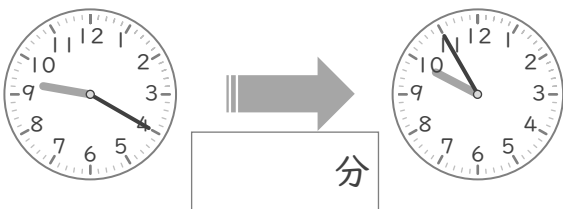
④ 7時10分 と 7時15分



⑨ 8時15分 と 8時55分



⑤ 9時20分 と 9時55分



⑩ 4時35分 と 4時40分



# 時こくと時間

年 組 名前

/10

■ つぎの 2つの 時こくの 間の時間を 答えましょう。

① 1時20分 と 1時40分



⑥ 2時5分 と 2時40分



② 12時15分 と 12時35分



⑦ 11時15分 と 11時25分



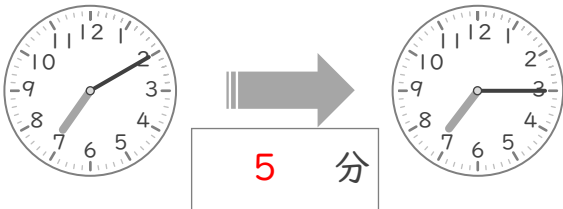
③ 10時5分 と 10時10分



⑧ 6時15分 と 6時20分



④ 7時10分 と 7時15分



⑨ 8時15分 と 8時55分



⑤ 9時20分 と 9時55分



⑩ 4時35分 と 4時40分

