

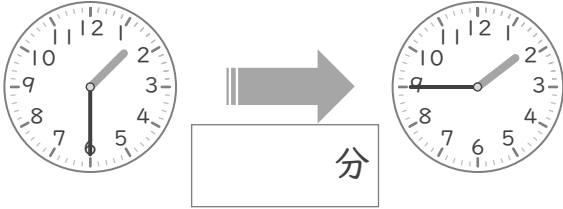
時こくと時間

年 組 名前

/10

■ つぎの 2つの 時こくの 間の時間を 答えましょう。

① 1時30分 と 1時45分



⑥ 8時35分 と 8時40分



② 7時10分 と 7時50分



⑦ 12時10分 と 12時15分



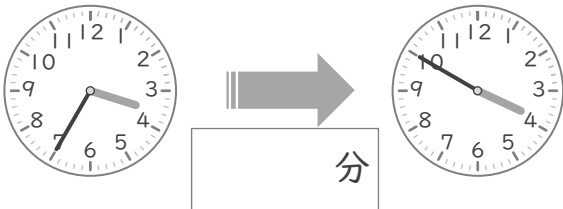
③ 6時50分 と 6時55分



⑧ 10時10分 と 10時40分



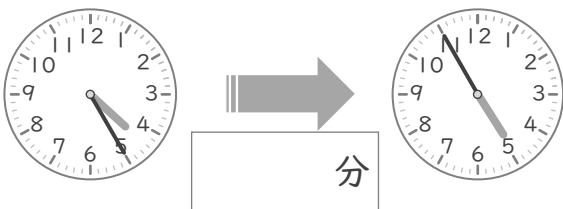
④ 3時35分 と 3時50分



⑨ 11時5分 と 11時50分



⑤ 4時25分 と 4時55分



⑩ 5時10分 と 5時20分



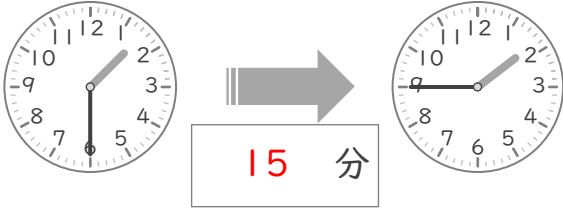
時こくと時間

年 組 名前

/10

■ つぎの 2つの 時こくの 間の時間を 答えましょう。

① 1時30分 と 1時45分



⑥ 8時35分 と 8時40分



② 7時10分 と 7時50分



⑦ 12時10分 と 12時15分



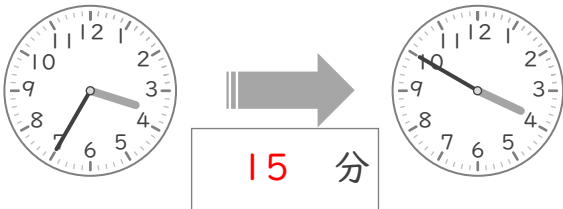
③ 6時50分 と 6時55分



⑧ 10時10分 と 10時40分



④ 3時35分 と 3時50分



⑨ 11時5分 と 11時50分



⑤ 4時25分 と 4時55分



⑩ 5時10分 と 5時20分

