

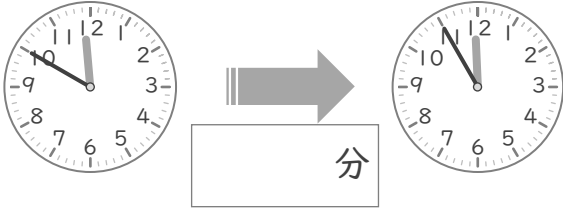
時こくと時間

年 組 名前

/10

■ つぎの 2つの 時こくの 間の時間を 答えましょう。

① 11時50分 と 11時55分



⑥ 8時15分 と 8時45分



② 2時45分 と 2時50分



⑦ 4時25分 と 4時35分



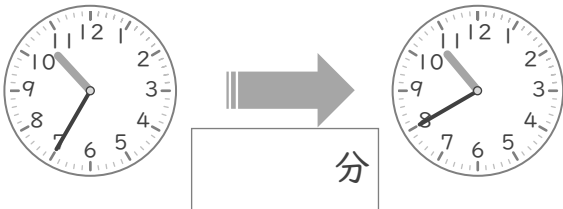
③ 3時15分 と 3時50分



⑧ 7時20分 と 7時40分



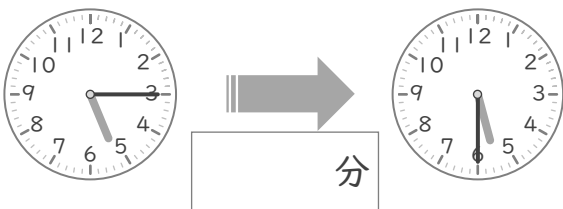
④ 10時35分 と 10時40分



⑨ 12時40分 と 12時55分



⑤ 5時15分 と 5時30分



⑩ 9時15分 と 9時25分



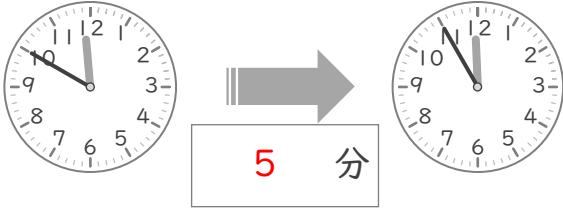
時こくと時間

年 組 名前

/10

■ つぎの 2つの 時こくの 間の時間を 答えましょう。

① 11時50分 と 11時55分



⑥ 8時15分 と 8時45分



② 2時45分 と 2時50分



⑦ 4時25分 と 4時35分



③ 3時15分 と 3時50分



⑧ 7時20分 と 7時40分



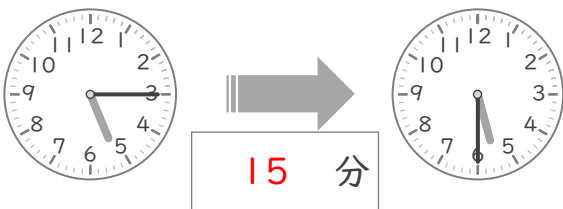
④ 10時35分 と 10時40分



⑨ 12時40分 と 12時55分



⑤ 5時15分 と 5時30分



⑩ 9時15分 と 9時25分

