

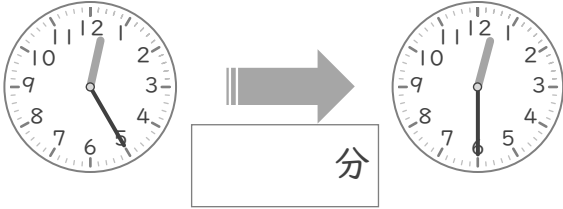
# 時こくと時間

年 組 名前

/10

■ つぎの 2つの 時こくの 間の時間を 答えましょう。

① 12時25分 と 12時30分



⑥ 6時10分 と 6時20分



② 2時15分 と 2時35分



⑦ 7時20分 と 7時30分



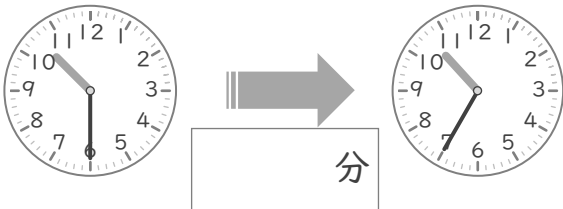
③ 8時15分 と 8時20分



⑧ 4時45分 と 4時55分



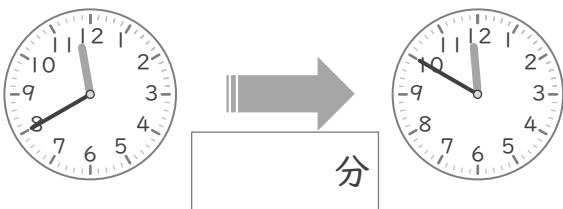
④ 10時30分 と 10時35分



⑨ 9時40分 と 9時45分



⑤ 11時40分 と 11時50分



⑩ 5時35分 と 5時50分



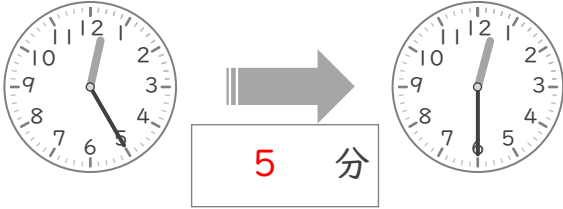
# 時こくと時間

年 組 名前

/10

■ つぎの 2つの 時こくの 間の時間を 答えましょう。

① 12時25分 と 12時30分



⑥ 6時10分 と 6時20分



② 2時15分 と 2時35分



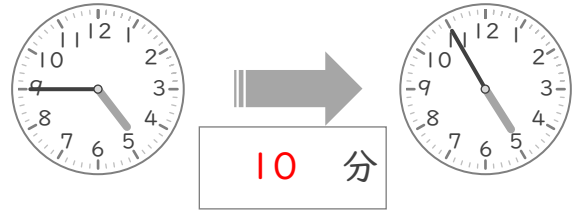
⑦ 7時20分 と 7時30分



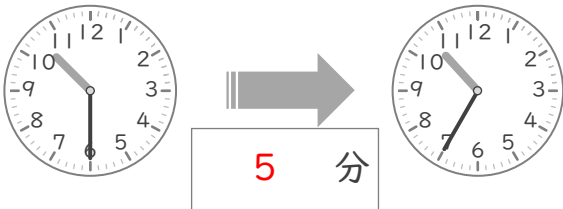
③ 8時15分 と 8時20分



⑧ 4時45分 と 4時55分



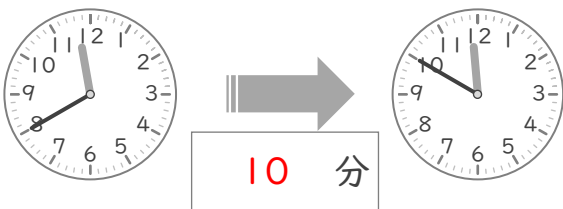
④ 10時30分 と 10時35分



⑨ 9時40分 と 9時45分



⑤ 11時40分 と 11時50分



⑩ 5時35分 と 5時50分

