

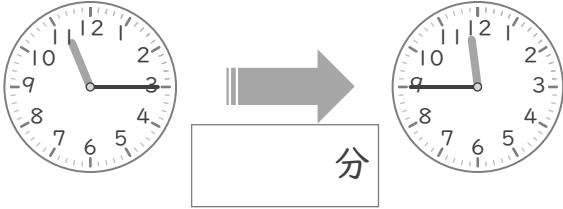
時こくと時間

年 組 名前

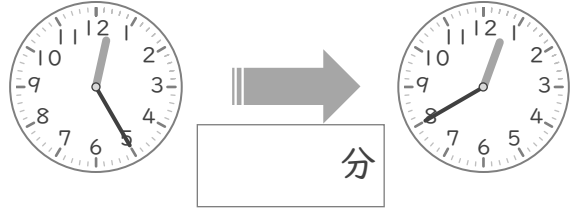
/10

■ つぎの 2つの 時こくの 間の時間を 答えましょう。

① 11時15分 と 11時45分



⑥ 12時25分 と 12時40分



② 3時10分 と 3時20分



⑦ 7時30分 と 7時50分



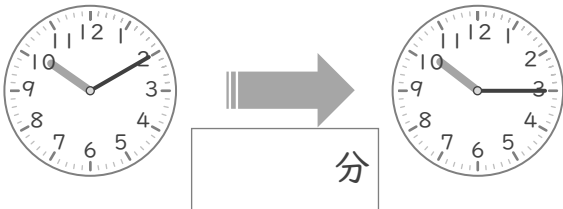
③ 2時20分 と 2時35分



⑧ 9時10分 と 9時35分



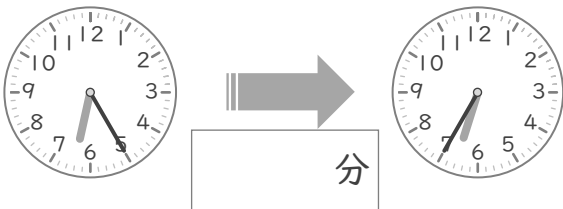
④ 10時10分 と 10時15分



⑨ 4時20分 と 4時50分



⑤ 6時25分 と 6時35分



⑩ 8時5分 と 8時40分



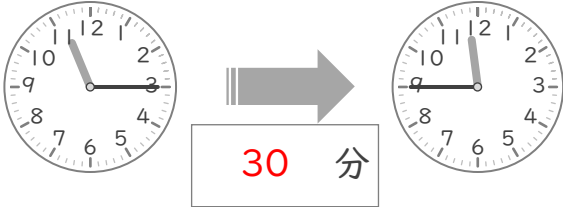
時こくと時間

年 組 名前

/10

■ つぎの 2つの 時こくの 間の時間を 答えましょう。

① 11時15分 と 11時45分



⑥ 12時25分 と 12時40分



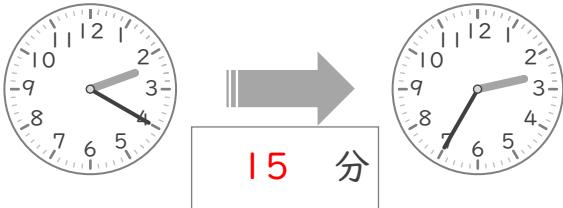
② 3時10分 と 3時20分



⑦ 7時30分 と 7時50分



③ 2時20分 と 2時35分



⑧ 9時10分 と 9時35分



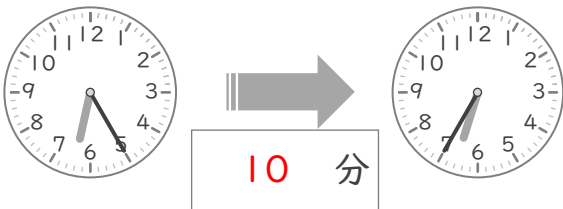
④ 10時10分 と 10時15分



⑨ 4時20分 と 4時50分



⑤ 6時25分 と 6時35分



⑩ 8時5分 と 8時40分

