

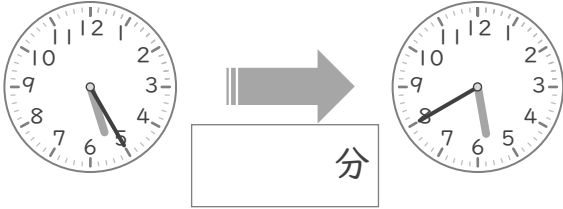
時こくと時間

年 組 名前

/10

■ つぎの 2つの 時こくの 間の時間を 答えましょう。

① 5時25分 と 5時40分



⑥ 8時30分 と 8時35分



② 11時5分 と 11時40分



⑦ 7時20分 と 7時50分



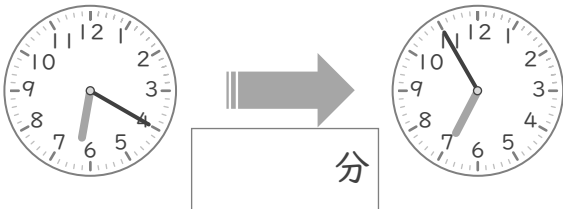
③ 2時30分 と 2時45分



⑧ 10時5分 と 10時30分



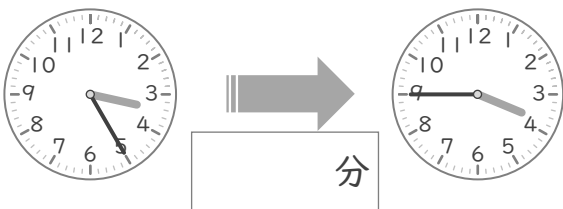
④ 6時20分 と 6時55分



⑨ 12時5分 と 12時25分



⑤ 3時25分 と 3時45分



⑩ 1時10分 と 1時30分



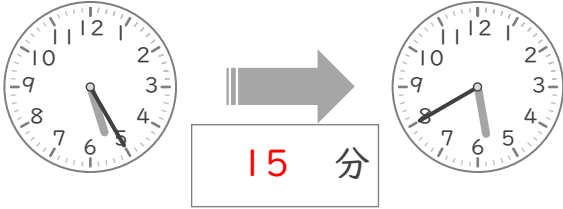
時こくと時間

年 組 名前

/10

■ つぎの 2つの 時こくの 間の時間を 答えましょう。

① 5時25分 と 5時40分



⑥ 8時30分 と 8時35分



② 11時5分 と 11時40分



⑦ 7時20分 と 7時50分



③ 2時30分 と 2時45分



⑧ 10時5分 と 10時30分



④ 6時20分 と 6時55分



⑨ 12時5分 と 12時25分



⑤ 3時25分 と 3時45分



⑩ 1時10分 と 1時30分

