

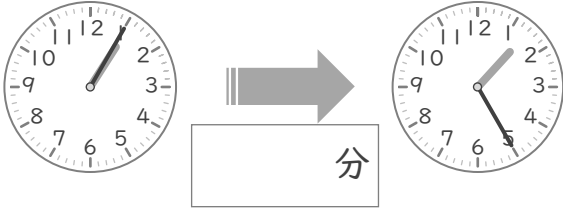
時こくと時間

年 組 名前

/10

■ つぎの 2つの 時こくの 間の時間を 答えましょう。

① 1時5分 と 1時25分



⑥ 10時10分 と 10時15分



② 8時25分 と 8時30分



⑦ 9時20分 と 9時50分



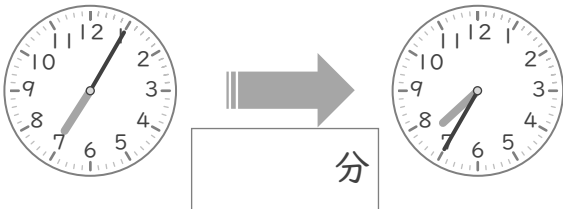
③ 5時30分 と 5時45分



⑧ 6時5分 と 6時15分



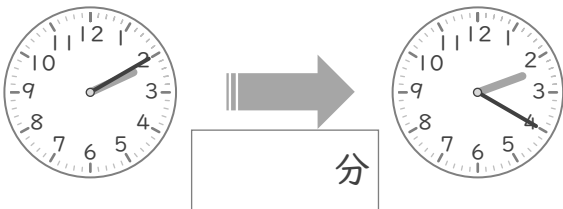
④ 7時5分 と 7時35分



⑨ 12時25分 と 12時40分



⑤ 2時10分 と 2時20分



⑩ 4時40分 と 4時55分



時こくと時間

年 組 名前

/10

■ つぎの 2つの 時こくの 間の時間を 答えましょう。

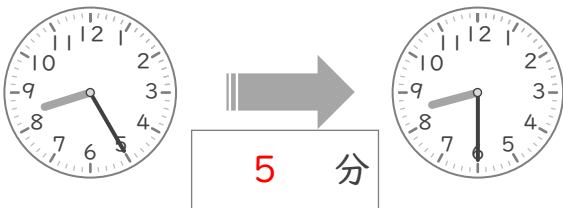
① 1時5分 と 1時25分



⑥ 10時10分 と 10時15分



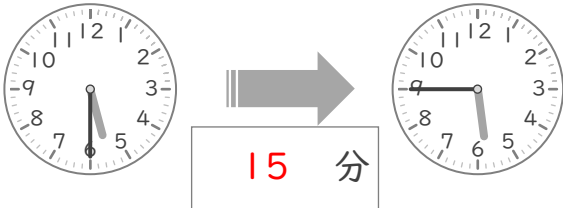
② 8時25分 と 8時30分



⑦ 9時20分 と 9時50分



③ 5時30分 と 5時45分



⑧ 6時5分 と 6時15分



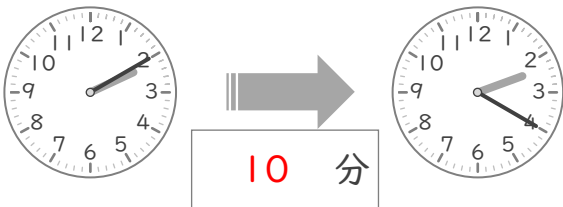
④ 7時5分 と 7時35分



⑨ 12時25分 と 12時40分



⑤ 2時10分 と 2時20分



⑩ 4時40分 と 4時55分

