

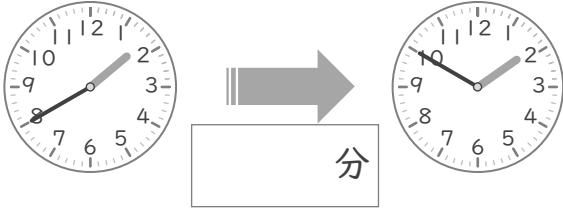
# 時こくと時間

年 組 名前

/10

■ つぎの 2つの 時こくの 間の時間を 答えましょう。

① 1時40分 と 1時50分



⑥ 12時15分 と 12時55分



② 10時5分 と 10時45分



⑦ 5時15分 と 5時25分



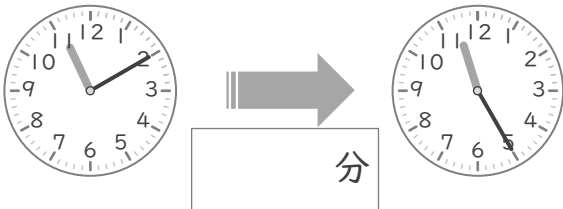
③ 7時10分 と 7時15分



⑧ 8時15分 と 8時35分



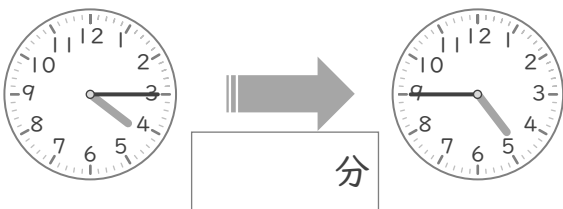
④ 11時10分 と 11時25分



⑨ 2時40分 と 2時55分



⑤ 4時15分 と 4時45分



⑩ 6時35分 と 6時45分



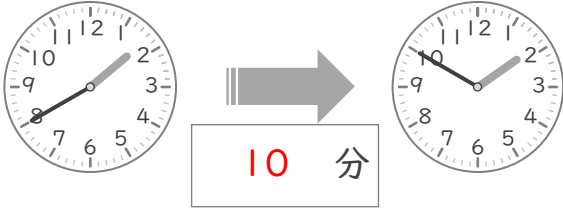
# 時こくと時間

年 組 名前

/10

■ つぎの 2つの 時こくの 間の時間を 答えましょう。

① 1時40分 と 1時50分



⑥ 12時15分 と 12時55分



② 10時5分 と 10時45分



⑦ 5時15分 と 5時25分



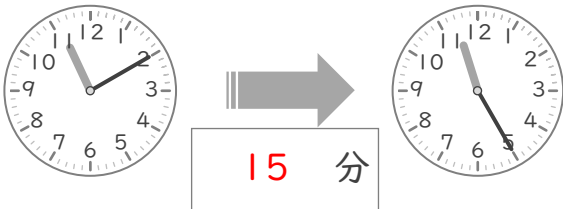
③ 7時10分 と 7時15分



⑧ 8時15分 と 8時35分



④ 11時10分 と 11時25分



⑨ 2時40分 と 2時55分



⑤ 4時15分 と 4時45分



⑩ 6時35分 と 6時45分

