

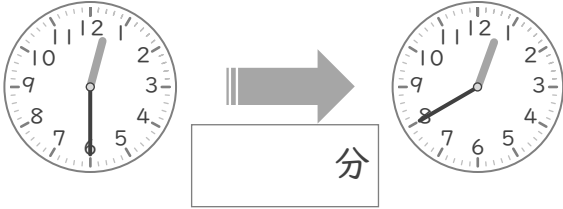
時こくと時間

年 組 名前

/10

■ つぎの 2つの 時こくの 間の時間を 答えましょう。

① 12時30分 と 12時40分



⑥ 4時5分 と 4時50分



② 2時10分 と 2時35分



⑦ 5時50分 と 5時55分



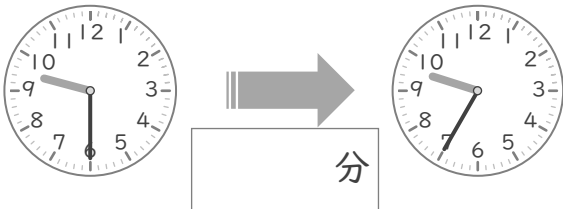
③ 6時45分 と 6時55分



⑧ 10時5分 と 10時10分



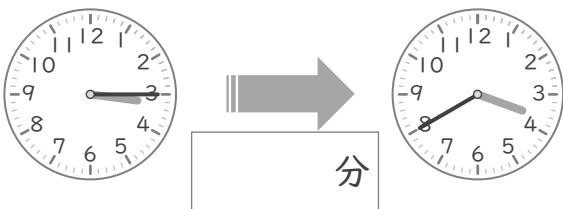
④ 9時30分 と 9時35分



⑨ 7時15分 と 7時35分



⑤ 3時15分 と 3時40分



⑩ 11時5分 と 11時55分



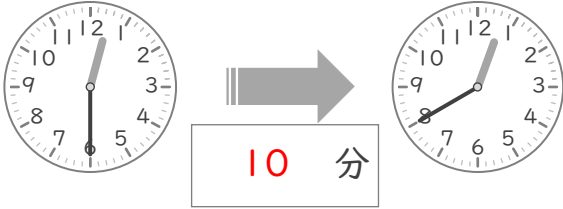
時こくと時間

年 組 名前

/10

■ つぎの 2つの 時こくの 間の時間を 答えましょう。

① 12時30分 と 12時40分



⑥ 4時5分 と 4時50分



② 2時10分 と 2時35分



⑦ 5時50分 と 5時55分



③ 6時45分 と 6時55分



⑧ 10時5分 と 10時10分



④ 9時30分 と 9時35分



⑨ 7時15分 と 7時35分



⑤ 3時15分 と 3時40分



⑩ 11時5分 と 11時55分

