

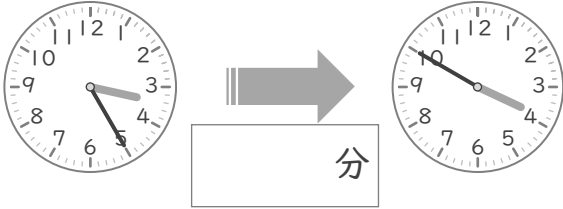
時こくと時間

年 組 名前

/10

■ つぎの 2つの 時こくの 間の時間を 答えましょう。

① 3時25分 と 3時50分



⑥ 4時5分 と 4時45分



② 7時10分 と 7時35分



⑦ 8時10分 と 8時15分



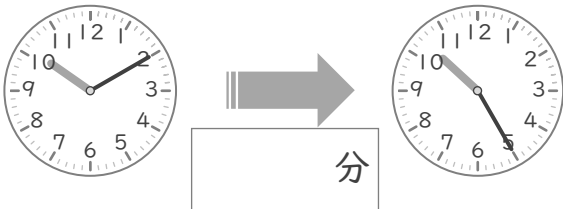
③ 9時20分 と 9時50分



⑧ 5時5分 と 5時35分



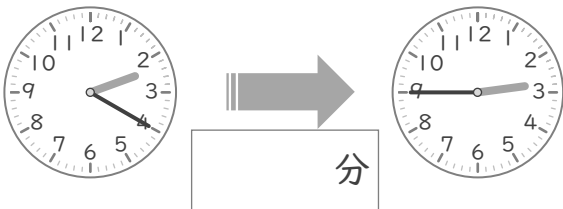
④ 10時10分 と 10時25分



⑨ 6時5分 と 6時20分



⑤ 2時20分 と 2時45分



⑩ 1時30分 と 1時50分



時こくと時間

年 組 名前

/10

■ つぎの 2つの 時こくの 間の時間を 答えましょう。

① 3時25分 と 3時50分



⑥ 4時5分 と 4時45分



② 7時10分 と 7時35分



⑦ 8時10分 と 8時15分



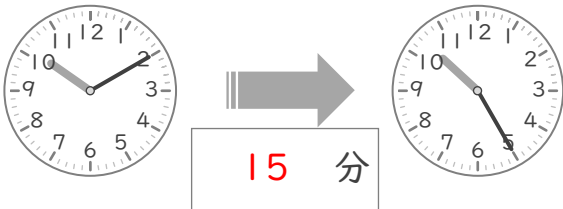
③ 9時20分 と 9時50分



⑧ 5時5分 と 5時35分



④ 10時10分 と 10時25分



⑨ 6時5分 と 6時20分



⑤ 2時20分 と 2時45分



⑩ 1時30分 と 1時50分

