

時こくと時間

年 組 名前

/12


■ つぎの時こくを 答えましょう。

① 11時40分の50分後



時 分

⑦ 7時50分の50分後




時 分

② 1時45分の20分後



時 分

⑧ 9時50分の45分後




時 分

③ 10時50分の20分後



時 分

⑨ 3時55分の25分後




時 分

④ 2時25分の45分後



時 分

⑩ 4時35分の50分後




時 分

⑤ 6時55分の15分後



時 分

⑪ 8時55分の35分後




時 分

⑥ 5時20分の55分後



時 分

⑫ 1時45分の30分後



時 分

時こくと時間

年 組 名前

/12

■ つぎの時こくを 答えましょう。

① 11時40分の50分後



12 時 30 分

② 1時45分の20分後



2 時 5 分

③ 10時50分の20分後



11 時 10 分

④ 2時25分の45分後



3 時 10 分

⑤ 6時55分の15分後




7 時 10 分

⑥ 5時20分の55分後




6 時 15 分

⑦ 7時50分の50分後




8 時 40 分

⑧ 9時50分の45分後




10 時 35 分

⑨ 3時55分の25分後




4 時 20 分

⑩ 4時35分の50分後




5 時 25 分

⑪ 8時55分の35分後



9 時 30 分

⑫ 1時45分の30分後



2 時 15 分